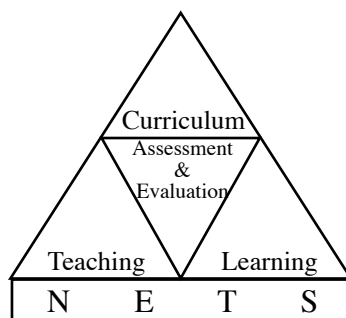


අ.පො.ස.(උ.පෙළ) විභාගය - 2015

අගයම් වාර්තාව

02 - රසායන විද්‍යාව



පර්යේෂණ හා සංවර්ධන ශාඛාව
ජාතික අගයම් හා පරීක්ෂණ සේවාව,
ශ්‍රී ලංකා විභාග දෙපාර්තමේන්තුව.

2.1.3 I ප්‍රශ්න පත්‍රය සඳහා අපේක්ෂිත පිළිතුරු හා ලකුණු දීමේ පටිපාටිය

ප්‍රශ්න අංකය	පිළිතුර	ප්‍රශ්න අංකය	පිළිතුර
01.	2	26.	2
02.	3	27.	3
03.	2	28.	3
04.	3	29.	3
05.	1	30.	1
06.	2	31.	5
07.	4	32.	2
08.	3	33.	2
09.	3	34.	5
10.	3	35.	4 සහ 5
11.	1	36.	1
12.	2	37.	3
13.	1	38.	5
14.	5	39.	5
15.	1	40.	1
16.	1	41.	1
17.	5	42.	4
18.	4	43.	4
19.	2	44.	1 සහ 3
20.	4	45.	3
21.	3	46.	5
22.	4	47.	5
23.	4	48.	2
24.	2	49.	1
25.	1	50.	4

නිවැරදි එක් පිළිතුරකට ලකුණු 02 බැගින් ලකුණු 100කි.

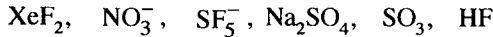
2.2.3. II ප්‍රශ්න පත්‍රය සඳහා අපේක්ෂිත පිළිතුරු, ලකුණු දීමේ පටිපාටිය සහ නිරීක්ෂණ, නිගමන හා යෝජනා

★ II පත්‍රය සඳහා පිළිතුරු සැපයීම පිළිබඳ නිරීක්ෂණ ප්‍රස්තාර 2, 3, 4.1, 4.2. හා 4.3 ඇසුරෙන් සකස් කර ඇත.

A කොටස - ව්‍යුහගත රචනා

ප්‍රශ්න හතරට ම මෙම පත්‍රයේ ම පිළිතුරු සපයන්න. (එක් එක් ප්‍රශ්නය සඳහා නියමිත ලකුණු ප්‍රමාණය 10 කි.)

1. (a) පහත සඳහන් රසායනික විශේෂ සලකන්න.



ඉහත විශේෂවලින් කුමක්/කුමක,

- (i) අයනික බන්ධන හා සහබන්ධන යන දෙකම අඩංගු වේ ද? Na_2SO_4
- (ii) BF_3 හා සමඉලෙක්ට්‍රෝනික වේ ද? NO_3^-
- (iii) සමවතුරප්‍රාකාර පිරමීඩීය හැඩයක් ගනී ද? SF_5^-
- (iv) එහි වඩාත් ම ස්ථායී ව්‍යුහයේ, බන්ධන ඉලෙක්ට්‍රෝන සංඛ්‍යාව හා බන්ධන නො වන ඉලෙක්ට්‍රෝන සංඛ්‍යාව සමාන වේ ද? SO_3
- (v) $1s$ පරමාණුක කාක්ෂිකයක් හා $2p$ පරමාණුක කාක්ෂිකයක් අතිවිභාදනය වීම හේතුවෙන් සෑදෙන σ -බන්ධනයක් තිබේ ද? HF
- (vi) 180° බන්ධන කෝණයක් අඩංගු වේ ද? XeF_2

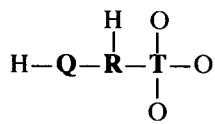
(04 x 6 = ලකුණු 24)

(01 (a) සඳහා ලකුණු 24)

සැ.යු. :- ප්‍රශ්නයකට එක පිළිතුරකට වැඩිය ලියා ඇත්නම් එම ප්‍රශ්නයට ලකුණු ප්‍රදානය නොකරන්න.

(b) H_3O_3QRT සංයෝගය ආම්ලික ලක්ෂණ පෙන්නුම් කරයි. එය ජලයේ දිය කළ විට H^+ ඉවත් වී $[H_2O_3QRT]^-$ ඇනායනය සාදයි. මෙම ඇනායනය සඳහා වඩාත් ම පිළිගත හැකි ලුච්ස් ව්‍යුහයේ, සෑණ ආරෝපණය ඔක්සිජන් පරමාණුවක් මත පවතී. අනිකුත් පරමාණු මත ආරෝපණ නොමැත. **Q, R** හා **T** මූලද්‍රව්‍ය විද්‍යුත් සෂණතාව 2 ට වඩා වැඩි (පෝලිං පරිමාණය) අලෝහ වේ. **Q** සහ **R** මූලද්‍රව්‍ය ආවර්තිතා වගුවේ දෙවන ආවර්තයට අයත් වන අතර **T** තුන්වන ආවර්තයට අයත් වේ.

පහත (i) සිට (v) තෙක් ඇති ප්‍රශ්න $[H_2O_3QRT]^-$ ඇනායනය මත පදනම් වේ. එහි සැකිල්ල පහත දක්වා ඇත.

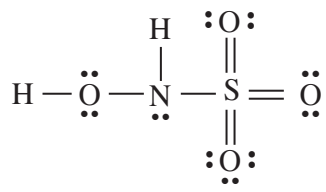


(i) **Q, R** සහ **T** මූලද්‍රව්‍ය හඳුනාගන්න.

Q = **O**, **R** = **N**, **T** = **S**

(02 + 02 + 02)


(ii) මෙම ඇනායනය සඳහා වඩාත් ම පිළිගත හැකි ලුච්ස් ව්‍යුහය අඳින්න.



(08)

සැ.යු. :- b (i) හා Q, R හා T නිවැරදි ව හඳුනාගෙන ඇතිනම් Q, R හා T යොදා ගනිමින් නිවැරදි ලුච්ස් ව්‍යුහය ඇඳීම සඳහා ලකුණු ප්‍රදානය කරන්න. නිත් කතිර ව්‍යුහය ද පිළිගන්නා ලදී.

(iii) මෙම ඇතායනය සඳහා සම්ප්‍රයුක්ත ව්‍යුහ හයක් අඳින්න.



(01 (b) (iii) සඳහා $03 \times 6 =$ ලකුණු 18)

- (iv) පහත දක්වා ඇති වගුවේ **Q, R** සහ **T** පරමාණුවල
- I. පරමාණුව වටා ඉලෙක්ට්‍රෝන යුගල ජ්‍යාමිතිය (ඉලෙක්ට්‍රෝන යුගල සැකසුම)
 - II. පරමාණුව වටා හැඩය
 - III. පරමාණුවේ මුහුම්කරණය
 - IV. පරමාණුව වටා බන්ධන කෝණයේ ආසන්න අගය
- සඳහන් කරන්න.

		Q	R	T
I	ඉලෙක්ට්‍රෝන යුගල ජ්‍යාමිතිය	චතුස්තලීය	චතුස්තලීය	චතුස්තලීය
II	හැඩය	කෝණික / V	පිරමීඩය	චතුස්තලීය
III	මුහුම්කරණය	sp ³	sp ³	sp ³
IV	බන්ධන කෝණය	103 - 105°	106 - 108°	108 - 110°

(01 (b) (iv) සඳහා 01 × 12 = ලකුණු 12)

- (v) ඉහත (ii) කොටසේ අදින ලද ලුවීස් ව්‍යුහයෙහි පහත දක්වා ඇති **O**-බන්ධන සෑදීම සඳහා සහභාගි වන පරමාණුක/මුහුම් කාක්ෂික හඳුනාගන්න.

- I. **Q—R** **Q** sp³ (මු.කා.) , **R** sp³ (මු.කා.)
- II. **R—T** **R** sp³ (මු.කා.) , **T** sp³ (මු.කා.)
- III. **T—O⁻** **T** sp³ (මු.කා.) , **O⁻** 2p (ප.කා.) හෝ sp³ (මු.කා.)

(01 (b) (v) සඳහා 01 × 6 = ලකුණු 06)

සැ.යු. :- **b (ii)** හි ලුවීස් ව්‍යුහය වැරදි වුවත්, මධ්‍ය පරමාණු/ව වටා ඉලෙක්ට්‍රෝන සැකසීම නිවැරදි නම් **b (iv)** හා **b (v)**ට ලකුණු ප්‍රදානය කරන්න.

- (vi) I. සහසංයුජ සංයෝගයක/අයනයක ලුවීස් ව්‍යුහයක් මගින් **සෘජුව** ලබා දෙන තොරතුරු මොනවා දැ'යි සඳහන් කරන්න.

- (1) සංයුජතා ඉලෙක්ට්‍රෝනවල ව්‍යාප්තිය (බන්ධන යුගල්/එකසර ඉලෙක්ට්‍රෝන යුගල්)
- (2) පරමාණු මත ඇති ආරෝපණ

(02 + 01)

- II. සහසංයුජ සංයෝගයක/අයනයක ලුවීස් ව්‍යුහයක් මගින් **සෘජුව ලබා නොදෙන** තොරතුරු මොනවා දැ'යි සඳහන් කරන්න.

- (1) හැඩය (මධ්‍ය පරමාණු/ව වටා)
- (2) මුහුම්කරණය
- (3) බන්ධන සැකසී ඇත්තේ කෙසේ ද හෝ බන්ධන සෑදීමට කුමන කාක්ෂික අතිවිෂාදනය වී ඇත් ද?
- (4) එකසර ඉලෙක්ට්‍රෝන යුගල් අඩංගු කාක්ෂිකවල ස්වභාවය
- (5) බන්ධන කෝණ

(මින් ඕනෑම දෙකක් 02 + 01)

(01 (b) (vi) සඳහා = ලකුණු 06)

(c) පහත දැක්වෙන ප්‍රකාශ සත්‍ය ද නැතහොත් අසත්‍ය ද යන බව සඳහන් කරන්න. ඔබේ තෝරා ගැනීමට හේතු දක්වන්න.

(i) NH_3 , NO_2F සහ NO_4^{3-} වල නයිට්‍රජන්හි විද්‍යුත් සෘණතාව අඩු වන පිළිවෙළ $\text{NO}_2\text{F} > \text{NO}_4^{3-} > \text{NH}_3$ වේ.

සත්‍ය වේ. (04)

	NO_2F	NO_4^{3-}	NH_3	
N මත ආරෝපණය	+1	+1	0	හෝ (02)
N හි ඔක්සිහරණ අවස්ථාව	+5	+5	-3	
N හි මුහුම්කරණය	sp^2	sp^3	sp^3	(02)

S ලක්ෂණය වැඩි වන විට විද්‍යුත්-සෘණතාව වැඩි වේ. (01)

ධන ආරෝපණය හෝ ඔක්සිහරණ අවස්ථාව වැඩි වන විට, උදාසීන පරමාණුවට වඩා විද්‍යුත්-සෘණතාවය වැඩි වේ. (01)

එබැවින් N හි විද්‍යුත් සෘණතාව $\text{NO}_2\text{F} > \text{NO}_4^{3-} > \text{NH}_3$

සැ.යු. :- ලකුණු ප්‍රදානය කිරීම සඳහා පේළියේ පිළිතුරු තුනම නිවැරදි විය යුතු යි.

(ii) ලිතියම් හේලයිඩවල ද්‍රවාංක වැඩි වන පිළිවෙළ $\text{LiF} < \text{LiCl} < \text{LiBr} < \text{LiI}$ වේ.

අසත්‍ය වේ. (04)

කැටායනය එකම වේ. (01)

ඇනායනයේ ආරෝපණ සමාන වන නමුත් (01) විශාලත්වය F සිට Cl දක්වා වැඩි වේ. (01)

එබැවින්, ධ්‍රැවණශීලිතාව $\text{I} > \text{Br} > \text{Cl} > \text{F}$ එබැවින්, (01)

සහසංයුජ ලක්ෂණය $\text{LiI} > \text{LiBr} > \text{LiCl} > \text{LiF}$ හෝ අයනික ලක්ෂණය $\text{LiF} > \text{LiCl} > \text{LiBr} > \text{LiI}$ (02)

එබැවින් ද්‍රවාංකය $\text{LiI} < \text{LiBr} < \text{LiCl} < \text{LiF}$

විකල්ප පිළිතුර

අසත්‍ය වේ. (04)

විද්‍යුත්-සෘණතා වෙනස $\text{LiI} < \text{LiBr} < \text{LiCl} < \text{LiF}$ (03)

එබැවින්, අයනික ලක්ෂණය $\text{LiI} > \text{LiBr} > \text{LiCl} > \text{LiF}$ (03)

ද්‍රවාංකය $\text{LiI} < \text{LiBr} < \text{LiCl} < \text{LiF}$

හෝ

අසත්‍ය වේ. (04)

විශාලත්වය : $\text{I} > \text{Br} > \text{Cl} > \text{F}$ (02)

එබැවින්, දැලිස ශක්තිය $\text{LiI} < \text{LiBr} < \text{LiCl} < \text{LiF}$ (02)

එබැවින්, අයනික ලක්ෂණය $\text{LiI} < \text{LiBr} < \text{LiCl} < \text{LiF}$ (02)

එබැවින්, ද්‍රවාංකය $\text{LiI} < \text{LiBr} < \text{LiCl} < \text{LiF}$ (02)

(01 (c) සඳහා = ලකුණු 20)

(1 සඳහා මුළු ලකුණු 100)

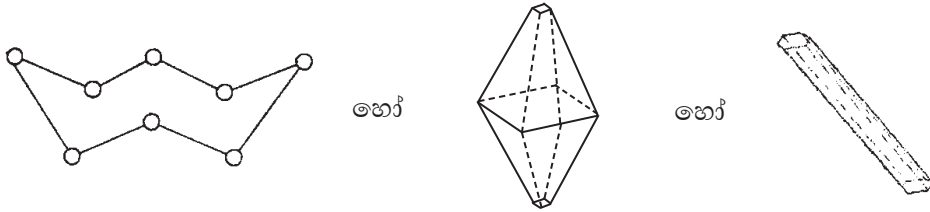
02 ප්‍රශ්නය

2. (a) X යනු පරමාණුක ක්‍රමාංකය 20 ට වඩා අඩු ආවර්තිතා වගුවේ p-ගොනුවේ මූලද්‍රව්‍යයකි. X වාතයෙහි දහනය කළ විට X₁ අවර්ණ වායුව සෑදේ. X₁ ට කටුක ගඳක් ඇත. X₁ පහසුවෙන් ජලයේ ද්‍රවණය වේ. මෙම ද්‍රවණයට BaCl₂ ද්‍රවණයක් එක් කළ විට X₂ සුදු අවක්ෂේපයක් සෑදේ. X₂ තනුක HCl හි ද්‍රවණය වී එක් එලයක් ලෙස X₃ දුබල අම්ලය දෙයි. X₁ ආම්ලිකතාව පොටෑසියම් ප'මරිංගනේට් ද්‍රවණයක් අවර්ණ කරයි. X₁ ඔක්සිකරණය කළ විට X₄ වායුව සෑදේ. X₅ ප්‍රබල අම්ලයෙහි කාර්මික නිෂ්පාදනය සඳහා X₄ භාවිත වේ.

(i) X හඳුනාගෙන එහි ස්ඵටිකරූපී අවස්ථාවේ ව්‍යුහය අඳින්න.

X : S හෝ සල්ෆර්

(04)



X හි ව්‍යුහය

(04)

(ii) X හි භූමි අවස්ථාවේ ඉලෙක්ට්‍රෝනික වින්‍යාසය ලියන්න. $1s^2 2s^2 2p^6 3s^2 3p^4$

(04)

(iii) X හි සුලභ ධන ඔක්සිකරණ අවස්ථා මොනවා ද? +2, +4, +6 හෝ +II, +IV, +VI (ඕනෑම දෙකක්)

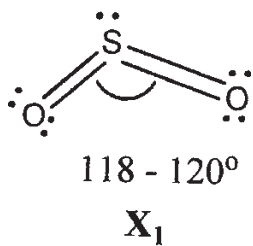
සැ.යු. :- පළමුව දී ඇති පිළිතුරු අතරින් නිවැරදි පිළිතුරු දෙකකට ලකුණු ප්‍රදානය කරන්න. (02 + 02)

(iv) පහත සඳහන් සංයෝගවල රසායනික සූත්‍ර ලියන්න.

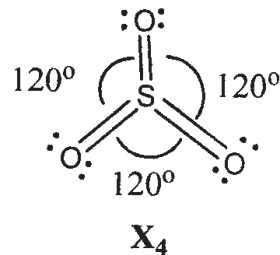
- X₁ : SO₂
- X₂ : BaSO₃
- X₃ : H₂SO₃
- X₄ : SO₃
- X₅ : H₂SO₄

(04 × 05)

(v) X₁ හා X₄ හි වඩාත් ම ස්ථායී ව්‍යුහවල දළ සටහන් අඳින්න. එක් එක් දළ සටහනෙහි බන්ධන කෝණවල ආසන්න අගයයන් පෙන්නුම් කරන්න.



(දළ සටහනෙහි V හෝ කෝණික සැකසුම් පෙන්නුම් කළ යුතු ය.)

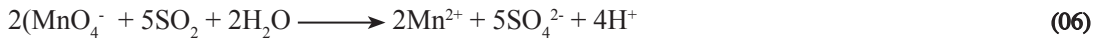
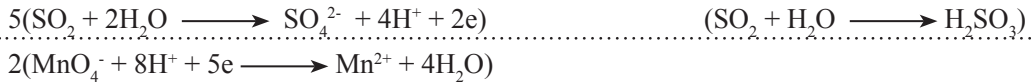


(දළ සටහනෙහි තලීය ත්‍රිකෝණාකාර සැකසුම් පෙන්නුම් කළ යුතු ය.)

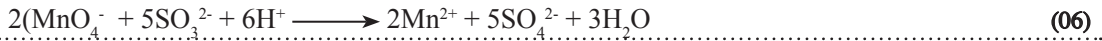
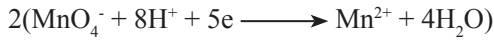
(දළ සටහන (02 + 01) + (02 + 01); කෝණය (01) + (01)

සැ.යු. :- 0 මත එකසර ඉලෙක්ට්‍රෝන යුගල් දැක්වීම අවශ්‍ය නැත.

(vi) X_1 හා ආම්ලිකත පොටෑසියම් ප'මැගනේට් අතර ප්‍රතික්‍රියාව සඳහා තුලිත රසායනික සමීකරණය ලියන්න.



හෝ



හෝ



(අර්ධ ප්‍රතික්‍රියා පමණක් දී ඇති නම් ඒ සඳහා ලකුණු (02) බැගින් ප්‍රදානය කරන්න.)

(02 (a) සඳහා = ලකුණු 50)

(b) A සිට E දක්වා ලේබල් කර ඇති පරීක්ෂණ නලවල පහත සඳහන් ඝන ද්‍රව්‍ය අඩංගු වේ. (පිළිවෙළින් නොවේ): $\text{Mg}(\text{NO}_3)_2$, $(\text{NH}_4)_2\text{CO}_3$, $(\text{NH}_4)_2\text{SO}_4$, NH_4NO_3 සහ NaHCO_3 .

මේ එක් එක් ඝන ද්‍රව්‍යය රත් කළ විට සෑදෙන ඵල පිළිබඳ විස්තරයක් පහත වගුවේ දැක් වේ.

ඝන ද්‍රව්‍යය	විස්තරය
A	1. භාෂ්මික සුදු කුඩක්; 2. ජල වාෂ්ප; 3. හුණු දියර කිරි පැහැ ගත්වන අවර්ණ, ගඳක් නොමැති වායුවක්.
B	වායුමය අවස්ථාවේ ඇති ඵල තුනක්.
C	1. ප්‍රබල අම්ලයක්; 2. නෙප්චර් ප්‍රතිකාරකය සමග දුඹුරු පැහැති අවක්ෂේපයක් / වර්ණයක් ලබා දෙන අවර්ණ වායුවක්.
D	1. ජලය සමග ප්‍රතික්‍රියා කර දුබල භාෂ්මික ද්‍රාවණයක් සාදන සුදු පැහැති ඔක්සයිඩයක්; 2. කාමර උෂ්ණත්වයේ දී අවර්ණ ද්විපරමාණුක වායුවක්; 3. රතු-දුඹුරු වායුවක්.
E	1. ජල වාෂ්ප; 2. රේඛීය ව්‍යුහයක් ඇති අවර්ණ, රසක් නොමැති, විෂ නැති, ත්‍රිපරමාණුක වායුවක්

(i) A සිට E දක්වා ඝන ද්‍රව්‍ය හඳුනාගන්න.

A : NaHCO_3

B : $(\text{NH}_4)_2\text{CO}_3$

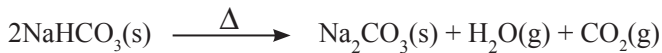
C : $(\text{NH}_4)_2\text{SO}_4$

D : $\text{Mg}(\text{NO}_3)_2$

E : NH_4NO_3

(05 x 05)

(ii) A සිට E දක්වා එක් එක් ඝන ද්‍රව්‍යය රත් කිරීමේ දී සිදු වන ප්‍රතික්‍රියා සඳහා තුලිත රසායනික සමීකරණ ලියන්න.



(05 x 05)

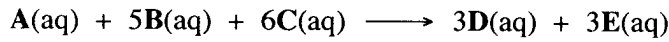
සැ.යු. :- භෞතික අවස්ථා අවශ්‍ය නැත.

(02 (b) සඳහා = ලකුණු 50)

(2 සඳහා මුළු ලකුණු 100)

03 ප්‍රශ්නය

3. (a) ආරම්භක ශීඝ්‍රතා මැනීමෙන් පහත ප්‍රතික්‍රියාවේ වාලනය අධ්‍යයනය කළ හැක.



A, B සහ C හි ආරම්භක සාන්ද්‍රණ වෙනස් කරමින් දී ඇති උෂ්ණත්වයක දී සිදු කරන ලද පරීක්ෂණ හතරක් පහත වගුවේ විස්තර කර ඇත. කාලය (t/s) සමග A හි සාන්ද්‍රණයේ වෙනස $[\Delta A]_0$ මැන ඇත.

පරීක්ෂණය	$[A]_0 / \text{mol dm}^{-3}$	$[B]_0 / \text{mol dm}^{-3}$	$[C]_0 / \text{mol dm}^{-3}$	$[\Delta A]_0 / \text{mol dm}^{-3}$	t/s	ආරම්භක ශීඝ්‍රතාව (R) / $\text{mol dm}^{-3} \text{s}^{-1}$
1	0.2	0.2	0.2	0.040	50	$R_1 = 8.0 \times 10^{-4}$ (05)
2	0.4	0.2	0.2	0.096	60	$R_2 = 1.60 \times 10^{-3}$ (05)
3	0.4	0.4	0.2	0.128	40	$R_3 = 3.20 \times 10^{-3}$ (05)
4	0.2	0.2	0.4	0.080	25	$R_4 = 3.20 \times 10^{-3}$ (05)

(i) ආරම්භක ශීඝ්‍රතාවයන් R_1, R_2, R_3 සහ R_4 ගණනය කර වගුව සම්පූර්ණ කරන්න.

(ii) A, B සහ C යන එක් එක් ප්‍රතික්‍රියකයට සාපේක්ෂව පෙළ පිළිවෙළින් a, b සහ c ලෙස හා වේග නියතය k ලෙස ද ගෙන a, b සහ c ගණනය කර, එම අගයයන් භාවිතයෙන් ප්‍රතික්‍රියාව සඳහා වේග ප්‍රකාශනය ලියා දක්වන්න.

වේගය = $k [A]^a [B]^b [C]^c$ (05)

1 පරීක්ෂණයෙන් $8.0 \times 10^{-4} = k [0.20]^a [0.20]^b [0.20]^c$ (1)

2 පරීක්ෂණයෙන් $16.0 \times 10^{-4} = k [0.40]^a [0.20]^b [0.20]^c$ (2) ඒකක ලියා නොමැත

3 පරීක්ෂණයෙන් $32.0 \times 10^{-4} = k [0.40]^a [0.40]^b [0.20]^c$ (3)

4 පරීක්ෂණයෙන් $32.0 \times 10^{-4} = k [0.20]^a [0.20]^b [0.40]^c$ (4) (2.5 x 4)

(1)/(2): $1/2 = (1/2)^a$: a = 1 (05)

(2)/(3): $1/2 = (1/2)^b$: b = 1 (05)

(1)/(4): $1/4 = (1/2)^c$: c = 2 (05)

∴ වේගය = $k [A] [B] [C]^2$ (05)

(iii) ප්‍රතික්‍රියාවේ සමස්ත පෙළ සඳහන් කරන්න.

සම්පූර්ණ පෙළ = 4 (05)

(iv) ප්‍රතික්‍රියාවේ වේග නියතය k ගණනය කරන්න.

1 සමීක්ෂණයෙන්
 $k = 8.0 \times 10^{-4} \text{ mol dm}^{-3} \text{ s}^{-1} / (0.20) (0.20) (0.20)^2 \text{ mol}^4 \text{ dm}^{-12}$ (05)

$k = 0.5 \text{ mol}^{-3} \text{ dm}^9 \text{ s}^{-1}$ (04 + 01)

සැ.යු. :- අනෙක් සමීකරණ භාවිතයෙන් ද, එක ම පිළිතුර ලැබේ.

(03 (a) සඳහා = ලකුණු 70)

- (b) (i) I. තවත් පරීක්ෂණයක දී සාන්ද්‍රණ $[A]_0 = 1.0 \times 10^{-3} \text{ mol dm}^{-3}$, $[B]_0 = 1.0 \text{ mol dm}^{-3}$ සහ $[C]_0 = 2.0 \text{ mol dm}^{-3}$ වේ නම්, ප්‍රතික්‍රියාව සඳහා වේග ප්‍රකාශනය, වේගය (Rate) = $k[A]^a$ ලෙස දැක්විය හැකි බව පෙන්වන්න. (k' යනු මෙම තත්ත්ව යටතේ දී ප්‍රතික්‍රියාවේ වේග නියතය වේ.)

$$\text{වේගය} = k[A][B][C]^2 \text{ හා } [A] = 1 \times 10^{-3} \text{ mol dm}^{-3}, [B] = 1 \text{ mol dm}^{-3}, [C] = 2 \text{ mol dm}^{-3}$$

$$k = [B][C]^2 = k' \quad (05)$$

$$\therefore \text{වේගය} = k'[A]^a \text{ (හෝ වේගය} = k'[A])$$

II. ඉහත I හි සඳහන් ප්‍රකාශනය ව්‍යුත්පන්න කිරීමේ දී භාවිත කළ උපකල්පන (ය) සඳහන් කරන්න.

$$\text{උපකල්පනය} = [B], [C] \gg [A] \text{ හෝ} \quad (05)$$

පරීක්ෂණයේ දී $[B]$ හා $[C]$ වෙනස් නොවේ හෝ B හා C වැඩිපුර ඇත.

- (ii) ඉහත (b) (i) පරීක්ෂණයේ දී A හි සාන්ද්‍රණය $[A]$, කාලය (t) සමග පහත දක්වා ඇති සමීකරණයට අනුව වෙනස් වේ. $2.303 \log [A] = -k't + 2.303 \log [A]_0$. ($[A]_0$ යනු A හි ආරම්භක සාන්ද්‍රණය වේ.) ප්‍රතික්‍රියාවේ අර්ධ ජීව කාලය ($t_{1/2}$), $0.693/k'$ මගින් දෙනු ලබන බව පෙන්වා, ඉහත (a)(iv) සහ (b) (i) හි දත්ත භාවිත කොට $t_{1/2}$ ගණනය කරන්න.

$$2.303 \log [A] = -k' t + 2.303 \log [A]_0 \quad \text{දී ඇත}$$

අර්ධ ජීව කාලයේ දී

$$t = t_{1/2}, [A] = [A]_0 / 2 \quad (05)$$

$$\therefore 2.303 \log \{ [A]_0 / 2 \} = -k' t_{1/2} + 2.303 \log [A]_0$$

$$k' t_{1/2} = 2.303 \log 2 = 0.693 \quad (05)$$

$$t_{1/2} = 0.693/k'$$

$$k' = k [B][C]^2$$

$$= 0.5 \text{ mol}^{-3} \text{ dm}^9 \text{ s}^{-1} \times 1 \text{ mol dm}^{-3} \times (2 \text{ mol dm}^{-3})^2$$

$$= 2 \text{ s}^{-1}$$

(04 + 01)

$$\therefore t_{1/2} = 0.693/2 \text{ s}^{-1} = 0.347 \text{ s (or 0.35 s)}$$

(04 + 01)

(03 (b) සඳහා = ලකුණු 30)

(3 සඳහා මුළු ලකුණු 100)

04 ප්‍රශ්නය

4. (a) A, B හා C යනු අණුක සූත්‍රය $C_5H_{11}Br$ වූ ව්‍යුහ සමාවයවික වේ. සමාවයවික තුනම ප්‍රකාශ සමාවයවිකතාවය පෙන්වීම කරයි. මධ්‍යසාරිය KOH හා ප්‍රතික්‍රියා කරවූ විට A, B හා C පිළිවෙලින් D, E හා F ලබා දේ. D ජ්‍යාමිතික සමාවයවිකතාවය පෙන්වීම කරන අතර, E හා F ජ්‍යාමිතික සමාවයවිකතාවය පෙන්වීම නොකරයි. HBr සමග ප්‍රතික්‍රියා කරවූ විට E හා F එකම G සංයෝගය ලබා දේ. G සංයෝගය A, B සහ C හි ව්‍යුහ සමාවයවිකයක් වේ. G ප්‍රකාශ සමාවයවිකතාවය පෙන්වීම නොකරයි. A, B, C, D, E, F හා G හි ව්‍යුහ පහත දී ඇති කොටුවල අඳින්න. (ත්‍රිමාන සමාවයවික ආකාර ඇඳ දැක්වීම අවශ්‍ය නැත)

$\begin{array}{c} \text{CH}_3\text{CH}_2\text{CH}_2\text{CHCH}_3 \\ \\ \text{Br} \end{array}$ <p>A</p>	$\begin{array}{c} \text{Br} \\ \\ \text{CH}_3\text{CHCHCH}_3 \\ \\ \text{CH}_3 \end{array}$ <p>B</p>	$\begin{array}{c} \text{CH}_3 \\ \\ \text{CH}_3\text{CH}_2\text{CHCH}_2\text{Br} \end{array}$ <p>C</p>
$\text{C}_2\text{H}_5\text{CH}=\text{CH}_2\text{CH}_3$ <p>D</p>	$\text{CH}_3\text{CH}=\text{C} \begin{array}{l} \diagup \text{CH}_3 \\ \diagdown \text{CH}_3 \end{array}$ <p>E</p>	$\begin{array}{c} \text{CH}_3 \\ \\ \text{C}_2\text{H}_2-\text{C}=\text{CH}_2 \end{array}$ <p>F</p>
<div style="border: 1px solid black; padding: 10px; width: fit-content; margin: 0 auto;"> $\begin{array}{c} \text{CH}_3 \\ \\ \text{C}_2\text{H}_2-\text{C}-\text{CH}_2 \\ \\ \text{Br} \end{array}$ </div> <p>G</p>		

(07 × 07)

(04 (a) සඳහා = ලකුණු 49)

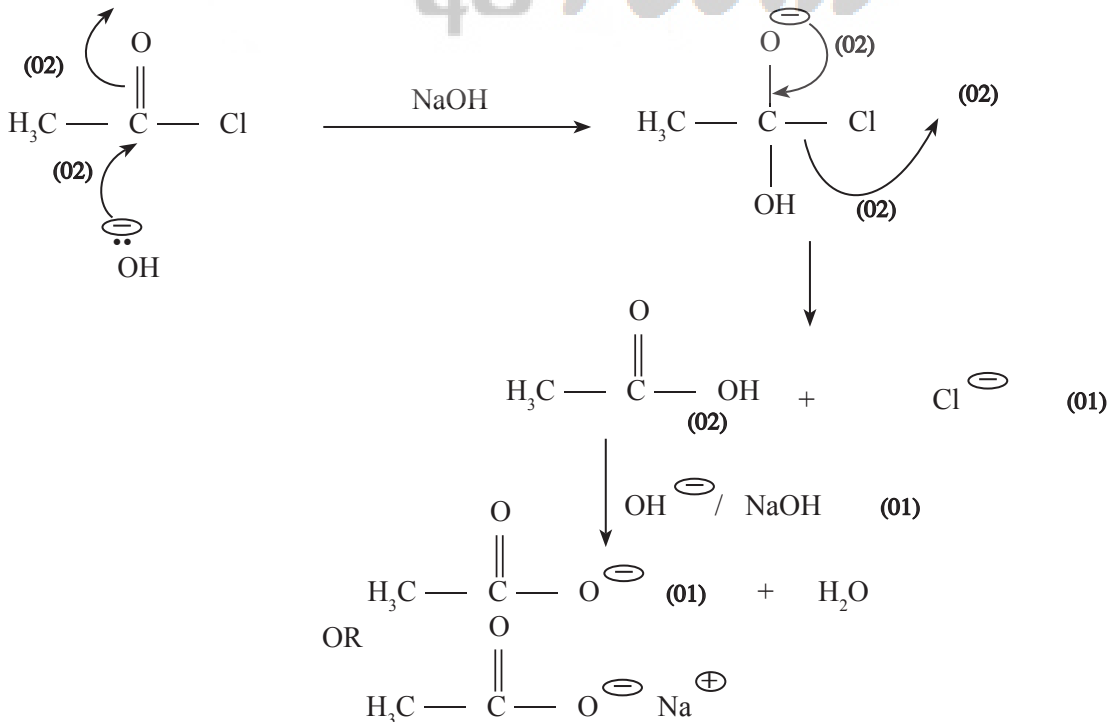
සැ.යු. B හා C මාරුකර ලිවිය හැක. ඒ අනුව E හා F ද මාරුකර ලිවිය යුතුය.

(b) පහත දී ඇති ප්‍රතික්‍රියාවල H, I, J, K, L, M, N, O, P සහ Q යන ප්‍රතිකාරක(ය)/උත්ප්‍රේරක(ය) (සුදුසු තත්ත්ව ඇතොත් ඒවා සමග) 8 වන පිටුවෙහි දී ඇති කොටුවල ලියන්න.

- (i) $\text{CH}_2=\text{CH}_2 \xrightarrow{\text{H}} \text{HOCH}_2\text{CH}_2\text{OH}$
- (ii) $\text{C}_6\text{H}_5\text{N}_2^+\text{Cl}^- \xrightarrow{\text{I}} \text{C}_6\text{H}_5\text{I}$
- (iii) $\text{CH}_3-\text{C}\equiv\text{C}-\text{CH}_3 \xrightarrow{\text{J}} \begin{array}{c} \text{CH}_3 \quad \text{CH}_3 \\ \diagdown \quad \diagup \\ \text{C}=\text{C} \\ \diagup \quad \diagdown \\ \text{H} \quad \text{H} \end{array}$
- (iv) $\text{C}_6\text{H}_5\text{COCH}_2\text{CO}_2\text{H} \xrightarrow{\text{K}} \text{C}_6\text{H}_5\text{CH}(\text{OH})\text{CH}_2\text{CO}_2\text{H}$
- (v) $\text{C}_2\text{H}_5\text{CH}_2\text{OH} \xrightarrow{\text{L}} \text{C}_2\text{H}_5\text{CO}_2\text{H}$
- (vi) $\text{CH}_3\text{CH}(\text{OH})-\text{CH}_3 \xrightarrow{\text{M}} \text{CH}_3\text{CH}=\text{CH}_2$
- (vii) $\text{CH}_3\text{C}\equiv\text{CH} \xrightarrow{\text{N}} \text{CH}_3\text{C}\equiv\text{CCu}$
- (viii) $\text{C}_6\text{H}_5\text{CO}_2\text{H} \xrightarrow{\text{O}} \text{C}_6\text{H}_5\text{COCl}$
- (ix) $\text{C}_6\text{H}_5\text{CONH}_2 \xrightarrow{\text{P}} \text{C}_6\text{H}_5\text{CH}_2\text{NH}_2$
- (x) $\text{C}_6\text{H}_6 \xrightarrow{\text{Q}} \text{C}_6\text{H}_5\text{COCH}_3$

(සිසිල්) ක්ෂාරීය KMnO_4 හෝ සිසිල් KMnO_4 (04) H	KI (03) I	$\text{H}_2/\text{pd}/\text{BaSO}_4/$ ක්විනොලින් හෝ $\text{H}_2/$ ලින්ඩ්ලර් උත්පේරකය (04) J
NaBH_4 (03) K	KMnO_4 හෝ H^+/KMnO_4 හෝ $\text{H}^+/\text{K}_2\text{Cr}_2\text{O}_7$ හෝ H^+/CrO_3 (04) L	නිර්ජලීය $\text{Al}_2\text{O}_3/\Delta$ හෝ H_2SO_4 හෝ P_2O_5 (04) M
$\text{NH}_3/\text{Cu}_2\text{Cl}_2$ හෝ NH_3/CuCl හෝ ඇමෝනියා CuCl හෝ $\text{NH}_4\text{OH}/\text{Cu}_2\text{Cl}_2$ හෝ $\text{NH}_4\text{OH}/\text{CuCl}$ (03) N	PCl_5 හෝ PCl_3 (03) O	LiAlH_4 (03) P
CH_3COCl නිර්ජලීය AlCl_3 (04) Q	(04 (b) සඳහා = ලකුණු 358)	

(c) ජලීය සෝඩියම් හයිඩ්‍රොක්සයිඩ් සමඟ CH_3COCl හි ප්‍රතික්‍රියාව සඳහා යන්ත්‍රණය ලියන්න.



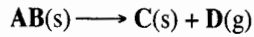
සැ.යු. :- අනෙක් සමීකරණ භාවිතයෙන් ද, එක ම පිළිතුර ලැබේ.

(04 (c) සඳහා = ලකුණු 16)

(4 සඳහා මුළු ලකුණු 100)

05 ප්‍රශ්නය

5. (a) 25 °C උෂ්ණත්වයේ දී පහත ප්‍රතික්‍රියාව සලකන්න.

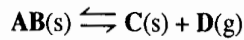


25 °C දී ΔH_f° හා S° සඳහා පහත දත්ත දී ඇත.

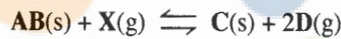
	$\Delta H_f^\circ / \text{kJ mol}^{-1}$	$S^\circ / \text{J K}^{-1} \text{mol}^{-1}$
AB(s)	-1208	100
C(s)	-600	50
D(g)	-500	170

- (i) 25 °C දී මෙම ප්‍රතික්‍රියාව ස්වයංසිද්ධව නොවන බව පෙන්වන්න.
- (ii) උෂ්ණත්වය T °C ට වඩා වැඩි වූ විට, මෙම ප්‍රතික්‍රියාව ස්වයංසිද්ධ වේ. උෂ්ණත්වය T °C ට වඩා අඩු වූ විට මෙම ප්‍රතික්‍රියාව ස්වයංසිද්ධ නොවේ. T ගණනය කරන්න.
- (iii) ඉහත (ii) හි ගණනයේ දී ඔබ භාවිත කළ උපකල්පන සඳහන් කරන්න. (ලකුණු 5.0 යි)

(b) ඉහත (a) හි විස්තර කර ඇති ප්‍රතික්‍රියාව පරිමාව 2.00 dm³ වන සංවෘත භාජනයක් තුළ 930 °C දී සිදු කළ විට, පද්ධතිය තුළ පහත සමතුලිතතාවය ඇති වේ.



- (i) මෙහි දී භාජනයේ පීඩනය 4.00 × 10⁵ Pa බව සොයාගෙන ඇත. 930 °C දී K_p හා K_c ගණනය කරන්න. ඔබ භාවිත කළ උපකල්පන සඳහන් කරන්න. (8.314 J K⁻¹mol⁻¹ × 1203 K = 10 000 J mol⁻¹ බව සලකන්න.)
- (ii) ඉහත (b)(i) හි ප්‍රතික්‍රියාව X(g) ඇති විට 930 °C දී සිදු කළ විට, සෑදෙන D(g) ප්‍රමාණය වැඩිකර ගත හැක. එවිට පද්ධතිය පහත සඳහන් පරිදි නව සමතුලිතතාවයක් පෙන්වයි.



- පරිමාව 2.00 dm³ වන සංවෘත භාජනයක් තුළ 930 °C දී X(g) මවුල 2.25 × 10⁻¹ ක් සමග මෙම ප්‍රතික්‍රියාව සිදු කළ විට, D(g) හි ආංශික පීඩනය 7.50 × 10⁵ Pa විය. මෙම නව සමතුලිතතාවය සඳහා K_p හා K_c ගණනය කරන්න.
- (iii) පහත අවස්ථාවල දී (b) (ii) කොටසෙහි සමතුලිතතාවයෙහි සිදු විය හැකි වෙනස් වීම් ගුණාත්මකව පහදන්න.
 - I. ඝන C වලින් කොටසක් පද්ධතියෙන් ඉවත් කළ විට
 - II. D වායුවෙන් කොටසක් පද්ධතියෙන් ඉවත් කළ විට (ලකුණු 10.0 යි)

5. (a) (i)



$\Delta H_m^\circ = \Delta H_f^\circ(C) + \Delta H_f^\circ(D) - \Delta H_f^\circ(AB)$ හෝ $\Delta H_m^\circ = \Delta H_{\text{පද}}^\circ - \Delta H_{\text{ප්‍රතික්‍රියක}}^\circ$	(01)
$= \{ (-600) + (-500) - (-1200) \} \text{ kJ mol}^{-1}$	(04)
$= 108 \text{ kJ mol}^{-1}$	(04 + 01)
$\Delta S_m^\circ = S_f^\circ(C) + S_f^\circ(D) - S_f^\circ(AB)$ හෝ $\Delta S_m^\circ = \Delta S_{\text{පද}}^\circ - \Delta S_{\text{ප්‍රතික්‍රියක}}^\circ$	(01)
$= \{ (50) - (170) - (100) \} \text{ J K}^{-1} \text{mol}^{-1}$	(04)
$= 120 \text{ J K mol}^{-1} (120 \times 10^{-3} \text{ kJ K}^{-1} \text{mol}^{-1} \text{ හෝ } 0.120 \text{ kJ K}^{-1} \text{mol}^{-1})$	(04 + 01)
$\Delta G_m^\circ = \Delta H_m^\circ - T \Delta S_m^\circ$	(05)
$= 108 \text{ kJ mol}^{-1} - 298 \text{ K} \times 120 \times 10^{-3} \text{ kJ K}^{-1} \text{mol}^{-1}$	(04 + 01)
$= 72.2 \text{ kJ mol}^{-1} \text{ (හෝ } 72 \text{ kJ mol}^{-1})$	(01)
ΔG_m° ධන අගයකි.	(05)
\therefore ප්‍රතික්‍රියාව 298 K (25 °C) දී ස්වයං සිද්ධ නොවේ.	

(ii) T උෂ්ණත්වයේ දී, දී ඇති විස්තරය අනුව,

$$\Delta G_m^\circ = 0 = \Delta H_m^\circ - (T + 273) \Delta S_m^\circ \quad (05)$$

$$(\text{හෝ } \Delta G_m^\circ = 0 = \Delta H_m^\circ - T \Delta S_m^\circ)$$

$$\therefore (T + 273) = \Delta H_m^\circ / \Delta S_m^\circ$$

$$= 108 \text{ kJ mol}^{-1} / 120 \times 10^{-3} \text{ kJ K}^{-1} \text{ mol}^{-1}$$

$$T = 627$$

(05)

[හෝ 900K (04 + 01)]

(iii) ΔH_m° හා ΔS_m° හි උෂ්ණත්වය සමග වෙනස්වීම නොසැලකිය හැකි තරම් වේ.

(298 K හා 900 K හිදී ΔH_m° හා ΔS_m° හි අගයන් එකම වේ.)

(ΔH_m° හා ΔS_m° හි උෂ්ණත්වයෙන් ස්වායත්ත බව)

(05)

(5 (a) සඳහා = ලකුණු 50)

(b) (i) $AB(s) \rightleftharpoons C(s) + D(g)$

පද්ධතිය තුළ වායුමය අවස්ථාවේ ඇත්තේ D(g) ය. පරිපූර්ණ ලෙස හැසිරීම

(05)

$$\therefore K_p = P_D = 4.0 \times 10^5 \text{ Pa} \quad (04 + 01)$$

(04 + 01)

$$K_p = K_c (RT)^{\Delta n}$$

(05)

$$\Delta n = 1 - 0 = 1$$

(05)

$$\therefore K_c = K_p / (RT)$$

$$= 4.0 \times 10^5 \text{ Pa} / 8.314 \text{ J K}^{-1} \text{ mol}^{-1} \times 1203 \text{ K}$$

$$= 4.0 \times 10^5 \text{ Pa} / 10000 \text{ J mol}^{-1}$$

$$= 40 \text{ mol m}^{-3} \quad (4 \times 10^{-2} \text{ mol dm}^{-3})$$

(04 + 01)

සැ.යු. :- වෙනත් පිළිගත හැකි නිවැරදි ආකාරයට K_c ගණනය කර ඇත්නම්, ලකුණු 15 ප්‍රදානය කරන්න.

(ii) $PV = nRT$ for D(g)

(04 + 01)

$$D(g) \text{ මවුල ප්‍රමාණය } n_D = P_D V / RT$$

(05)

$$= 7.5 \times 10^5 \text{ Pa} \times 2.00 \times 10^{-3} \text{ m}^3 / 8.314 \text{ J K}^{-1} \text{ mol}^{-1} \times 1203 \text{ K}$$

(05)

$$= 7.5 \times 10^5 \text{ Pa} \times 2.00 \times 10^{-3} \text{ m}^3 / 10000 \text{ J mol}^{-1}$$

$$= 7.5 \times 10^5 \text{ J m}^{-3} \times 2.00 \times 10^{-3} \text{ m}^3 / 10000 \text{ J mol}^{-1}$$

$$= 0.15 \text{ mol}$$

(04 + 01)

$$\text{වැය වූ } X(g) \text{ ප්‍රමාණය} = 0.15/2 \text{ mol} = 0.075 \text{ mol} \quad (P:D = 1.2)$$

(05)

$$\text{ඉතිරි } X(g) \text{ ප්‍රමාණය} = (0.225 - 0.075) \text{ mol} = 0.15 \text{ mol}$$

(05)

$$\text{මවුල භාග} : X_D = 1/2, \quad X_X = 1/2$$

(05)

$$P_D = P_{\text{total}} X_D$$


$$\therefore P_{\text{total}} = 7.5 \times 10^5 \times 2 \text{ Pa} = 15 \times 10^5 \text{ Pa}$$

(04 + 01)

$$\therefore P_X = 15 \times 10^5 \times 1/2 \text{ Pa} = 7.5 \times 10^5 \text{ Pa}$$

(04 + 01)

$$(\text{හෝ } P_X = P_{\text{total}} - P_D)$$



$$K_p = (P_D)^2 / P_X \quad (05)$$

$$= (7.5 \times 10^5 \text{ Pa})^2 / 7.5 \times 10^5 \text{ Pa}$$

$$= 7.5 \times 10^5 \text{ Pa} \quad (04 + 01)$$

$$K_p = K_c(RT)^{\Delta n}$$

$$\Delta n = 2 - 1 = 1 \quad (05)$$

$$\therefore K_c = K_p / (RT)$$

$$= 7.5 \times 10^5 \text{ Pa} / 8.314 \text{ J K}^{-1} \text{ mol}^{-1} \times 1203 \text{ K}$$

$$= 7.5 \times 10^5 \text{ Pa} / 10000 \text{ J mol}^{-1}$$

$$= 75 \text{ mol m}^{-3} \text{ (} 7.5 \times 10^{-2} \text{ mol dm}^{-3} \text{)} \quad (04 + 01)$$

සැ.යු. :- වෙනත් පිළිගත හැකි නිවැරදි ආකාරයට K_c ගණනය කර ඇත්නම්, ලකුණු 10 ප්‍රදානය කරන්න.

(iii) I C සහයක් නිසා සමතුලිතතාව කෙරෙහි බලපෑමක් නැත. (05 + 05)

II C ප්‍රමාණය වැඩි නිසා සමතුලිතතාව ඉදිරියට නැඹුරු වේ. (05 + 05)

හෝ ලේ වැටලියර් මූලධර්මය අනුව සමතුලිතතාව ඉදිරියට නැඹුරු වේ.

හෝ D හි ප්‍රමාණය අඩුවන බැවින් ලේ වැටලියර් මූලධර්මය අනුව සමතුලිතතාව ඉදිරියට නැඹුරු වේ.

සැ.යු.: දෙවන ලකුණු (05) ප්‍රදානය කිරීම සඳහා පිළිතුරේ පළමු කොටස නිවැරදි විය යුතු ය.

(5 (b) සඳහා = ලකුණු 100)

(5 සඳහා මුළු ලකුණු 150)

Maths
අර්ථ : com

06 ප්‍රශ්නය

6. (a) XA(s) සහ YA(s) යනු ජලයෙහි ඉතා අල්ප වශයෙන් දියවන ලවණ දෙකකි.

(i) 25°C දී XA(s) ලවණයෙහි ජලයෙහි ද්‍රාව්‍යතාව 2.01 mg dm^{-3} වේ. 25°C දී XA(s) හි ද්‍රාව්‍යතා ගුණිතය K_{sp} ගණනය කරන්න. ($\text{X} = 110 \text{ g mol}^{-1}$, $\text{A} = 40 \text{ g mol}^{-1}$)

(ii) $\text{X}^+(\text{aq})$ මවුල 0.100 ක් හා $\text{Y}^+(\text{aq})$ මවුල 0.100 ක් අඩංගු වන 1.00 dm^3 ජලීය ද්‍රාවණයකට, ජලයේ සම්පූර්ණයෙන් දියවන NaA සහ ලවණය සෙමින් එකතු කරන ලදී.

I. පළමුව අවක්ෂේප වන්නේ මින් කුමන ලවණය ද යන වග පුරෝකථනය කරන්න.

$$(K_{sp}(\text{YA}) = 1.80 \times 10^{-7} \text{ mol}^2 \text{ dm}^{-6}).$$

II. දෙවන ලවණය අවක්ෂේප වීම ආරම්භ වන විට ද්‍රාවණයේ ඉතිරිව ඇති පළමුව අවක්ෂේප වූ ලවණයෙහි කැටායන සාන්ද්‍රණය ගණනය කරන්න.

(b) (i) දුබල අම්ලයක් වන HA(aq) , NaOH ද්‍රාවණයක් සමග අනුමාපනය කිරීමේ දී, $\text{A}^-(\text{aq})$ හි ජල විච්ඡේදනය සැලකීමෙන් සමකතා ලක්ෂ්‍යයේ දී ද්‍රාවණයේ pH අගය, $\text{pH} = \frac{1}{2} \text{p}K_w + \frac{1}{2} \text{p}K_a + \frac{1}{2} \log [\text{A}^-(\text{aq})]$ මගින් ලබා දෙන බව පෙන්වන්න.

$$(\text{බවට } \text{pH} + \text{pOH} = \text{p}K_w, \text{ p}K_a + \text{p}K_b = \text{p}K_w \text{ සහ } K_b = \frac{[\text{OH}^-(\text{aq})][\text{HA(aq)}]}{[\text{A}^-(\text{aq})]} \text{ බව දී ඇත.)}$$

(ii) $1 \times 10^{-3} \text{ mol dm}^{-3}$ HA(aq) ද්‍රාවණයක් $1 \times 10^{-3} \text{ mol dm}^{-3}$ NaOH ද්‍රාවණයක් සමග අනුමාපනය කිරීමේ දී සමකතා ලක්ෂ්‍යයේ දී pH අගය ගණනය කරන්න. ($K_a = 1.8 \times 10^{-5} \text{ mol dm}^{-3}$)

(iii) සාන්ද්‍රණය $2 \times 10^{-3} \text{ mol dm}^{-3}$ වන $\text{Y}^+(\text{aq})$ ද්‍රාවණ 500.00 cm^3 ක් සාන්ද්‍රණය $2 \times 10^{-3} \text{ mol dm}^{-3}$ වන HA(aq) ද්‍රාවණ 500.00 cm^3 කට එකතු කරන ලදී. YA(s) අවක්ෂේප කිරීම සඳහා මෙම ද්‍රාවණයට සහ NaA සෙමින් එකතු කරන ලදී. YA(s) අවක්ෂේප වීම ආරම්භ වන විට මෙම ද්‍රාවණයේ pH අගය ගණනය කරන්න.

$$(K_{sp}(\text{YA}) = 1.80 \times 10^{-7} \text{ mol}^2 \text{ dm}^{-6}).$$

(ලකුණු 7.0 යි)

(c) බෙන්සීන් හා ටොලුවීන් එකිනෙක හා සම්පූර්ණයෙන් මිශ්‍ර වී ද්වයාංගී මිශ්‍රණයක් සාදයි. බෙන්සීන් හා ටොලුවීන් හි තාපාංක පිළිවෙළින් 80°C හා 110°C වේ.

(i) ඉහත පද්ධතිය සඳහා සුදුසු උෂ්ණත්වය - සංයුති කලාප සටහනක් ඇඳ දක්වන්න.

(ii) බෙන්සීන් 30% ක් ඇති ද්‍රව මිශ්‍රණයක් (P) ආසවනය කරන්නේ යැයි සලකන්න.

I. P ද්‍රව මිශ්‍රණයෙහි තාපාංකය T_1 ඉහත කලාප සටහනෙහි ලකුණු කර දක්වන්න.

II. T_1 උෂ්ණත්වයේ දී වාෂ්ප කලාපයෙහි සංයුතිය (Q) ඉහත කලාප සටහනෙහි ලකුණු කර දක්වන්න.

III. T_1 උෂ්ණත්වයේ දී ද්‍රව හා වාෂ්ප කලාපයන්හි සංයුති වෙනස ගුණාත්මකව පහදන්න. මෙම වෙනස පදනම් කර ගනිමින් ඉහත ද්වයාංගී මිශ්‍රණයෙන් බෙන්සීන් වෙන් කර ගැනීමට යොදා ගන්නා ක්‍රමය නම් කරන්න.

(iii) එකිනෙකට සමාන තාපාංක ඇති සම්පූර්ණයෙන් මිශ්‍ර වන ද්‍රව දෙකකින් සෑදෙන ද්වයාංගී මිශ්‍රණයක් සඳහා ලැබෙන උෂ්ණත්වය - සංයුති කලාප සටහන ඇඳ දක්වන්න.

(ලකුණු 3.0 යි)



$$\text{සමතුලිතතාවේ දී} \quad \begin{array}{ccc} x & x & \text{mol dm}^{-3} \end{array} \quad (05)$$

$$\begin{aligned} \text{ද්‍රාව්‍යතාව (x)} = 2.01 \text{ mg dm}^{-3} &= 2.01 \times 10^{-3} \text{ g dm}^{-3} = 2.01 \times 10^{-3} / 150 \text{ mol dm}^{-3} \\ &= 1.34 \times 10^{-5} \text{ mol dm}^{-3} \end{aligned} \quad (04 + 01)$$

$$K_{sp} = [\text{X}^+(\text{aq})][\text{A}^-(\text{aq})] = x^2 \quad (05)$$

$$= (1.34 \times 10^{-5} \text{ mol dm}^{-3})^2$$

$$= 1.80 \times 10^{-10} \text{ mol}^2 \text{ dm}^{-6} \quad (04 + 01)$$

$$(\text{හෝ } 1.79 \times 10^{-10} \text{ mol}^2 \text{ dm}^{-6})$$

(ii) I.	XA සඳහා	YA සඳහා
	$K_{sp} = [X^+(aq)] [A^-(aq)]$	$K_{sp} = [Y^+(aq)] [A^-(aq)]$
	$[A^-(aq)] = K_{sp} / [X^+(aq)]$	$[A^-(aq)] = K_{sp} / [Y^+(aq)]$ (05)
	$= (1.80 \times 10^{-10} / 0.100) \text{ mol dm}^{-3}$	$= (1.80 \times 10^{-7} / 0.100) \text{ mol dm}^{-3}$
	$= 1.80 \times 10^{-9} \text{ mol dm}^{-3}$ (04 + 01)	$= 1.80 \times 10^{-6} \text{ mol dm}^{-3}$ (04 + 01)
	\therefore XA පළමු ව අවක්ෂේප වේ.	

විකල්ප පිළිතුර

XA හා YA හි ස්වභාවික සමතුලිතතාවය එක ම වේ.	(05)
$[X^+(aq)] = [Y^+(aq)]$	(05)
$K_{sp}(XA) < K_{sp}(YA)$	(05)
\therefore XA පළමු ව අවක්ෂේප වේ.	(05)

II.	$K_{sp(XA)} = [X^+(aq)] [A^-(aq)]$	
	\therefore ද්‍රාවණයේ ඉතිරි ව ඇති $[X^+(aq)] = (1.80 \times 10^{-10} / 1.80 \times 10^{-6}) \text{ mol dm}^{-3}$	(05)
	(මෙම අවස්ථාවේ දී YA අවක්ෂේප කිරීම සඳහා අවශ්‍ය වන $[A^-(aq)]$)	
	$= 1.0 \times 10^{-4} \text{ mol dm}^{-3}$	(04 + 01)
	(හෝ $9.9 \times 10^{-5} \text{ mol dm}^{-3}$)	
	(6 (a) සඳහා = ලකුණු 50)	

(b) (i)	සමකතා ලක්ෂයේ දී	
	$HA(aq) + NaOH(aq) \longrightarrow NaA(aq) + H_2O(l)$	(04 + 01)
	NaA(aq) හි (හෝ $A^-(aq)$) ජලවිච්ඡේදන ප්‍රතික්‍රියාව	
	$A^-(aq) + H_2O(l) \rightleftharpoons HA(aq) + OH^-(aq)$	(04 + 01)
	$K_b = [HA(aq)] [OH^-(aq)] / [A^-(aq)]$	
	$[HA(aq)] = [OH^-(aq)]$	(04 + 01)
	$\therefore K_b = [OH^-(aq)]^2 / [A^-(aq)]$	
	$[OH^-(aq)] = \{K_b [A^-(aq)]\}^{1/2}$	
	$\therefore pOH = \frac{1}{2} pK_b - \frac{1}{2} \log [A^-(aq)]$	(04 + 01)
	$pK_w - pH = \frac{1}{2} pK_w - \frac{1}{2} pK_a - \frac{1}{2} \log [A^-(aq)]$	(04 + 01)
	$\therefore pH = \frac{1}{2} pK_w + \frac{1}{2} pK_a + \frac{1}{2} \log [A^-(aq)]$	

සැ.යු.: (01) ලකුණු භෞතික අවස්ථා සඳහා ලබා දී ඇත.

(ii)	සමකතා ලක්ෂයේ දී $[A^-(aq)] = (1 \times 10^{-3} / 2) \text{ mol dm}^{-3}$ (පරිමාව දෙගුණ වේ.)	
	$= 5 \times 10^{-4} \text{ mol dm}^{-3}$	(04 + 01)
	$\therefore pH = \frac{1}{2} \times 14 + \frac{1}{2} \times 4.74 + \frac{1}{2} \log [5 \times 10^{-4}]$	
	$= 7.69 = 7.69 (7.69 - 7.72)$	(05)

විකල්ප පිළිතුර

$$K_b = \frac{K_w}{K_a} = [\text{OH}^-(\text{aq})]^2 / [\text{A}^-(\text{aq})]$$

$$\frac{1 \times 10^{-14}}{1.8 \times 10^{-5}} = [\text{OH}^-(\text{aq})]^2 / 5 \times 10^{-4}$$

$$[\text{OH}^-(\text{aq})] = 5.24 \times 10^{-7} \text{ mol dm}^{-3}$$

$$\text{pH} = 7.72/$$

(05)

(iii) $[\text{Y}^+(\text{aq})] = 1.0 \times 10^{-3} \text{ mol dm}^{-3}$

(04+01)

YA අවක්ෂේප වීම සඳහා අවශ්‍ය වන $[\text{A}^-(\text{aq})] = (1.80 \times 10^{-7} / 0.001) \text{ mol dm}^{-3}$

$$= 1.80 \times 10^{-4} \text{ mol dm}^{-3}$$

(04+01)



(04+01)

$$K_a = [\text{H}^+(\text{aq})] [\text{A}^-(\text{aq})] / [\text{HA}(\text{aq})]$$

(04+01)

$$\therefore 1.80 \times 10^{-5} \text{ mol dm}^{-3} = \{[\text{H}^+(\text{aq})] 1.80 \times 10^{-4} / 0.001\}$$

$$\{(1-\alpha) \sim 1\}$$

(05)

$$[\text{H}^+(\text{aq})] = 1.0 \times 10^{-4} \text{ mol dm}^{-3}$$

(04+01)

$$\therefore \text{pH} = 4$$

(05)

විකල්ප පිළිතුර

$$K_a = [\text{H}^+(\text{aq})] [\text{A}^-(\text{aq})] / [\text{HA}(\text{aq})]$$

$$\text{pH} = \text{p}K_a + \log \{[\text{A}^-(\text{aq})] / [\text{HA}(\text{aq})]\}$$

(04+01)

$$= 4.74 + \log \{1.80 \times 10^{-4} / 0.001\}$$

(05)

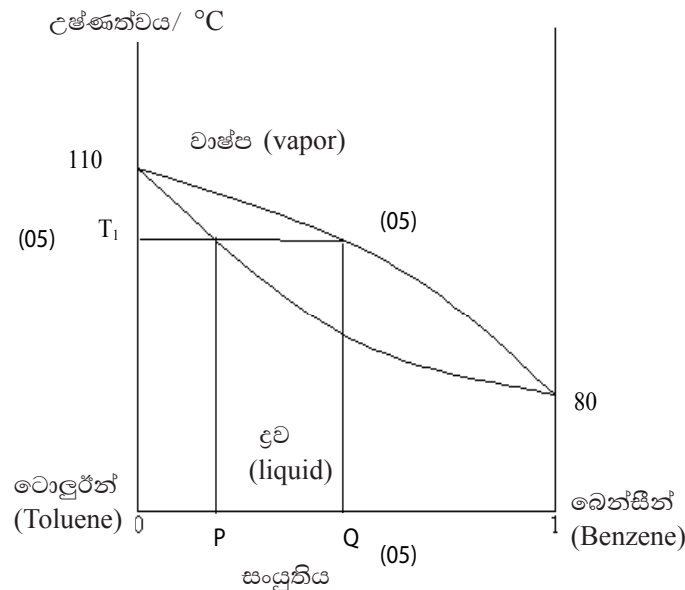
$$= 4.74 - 0.74 = 4$$

(05)

සැ.යු.: (01) ලකුණු භෞතික අවස්ථා සඳහා ලබා දී ඇත.

(6 (b) සඳහා = ලකුණු 70)

(c) (i), (ii) I - II ප්‍රශ්න කොටස සඳහා



III. සංයුතිය : වාෂ්ප > ලව (බෙන්සීන්හි)

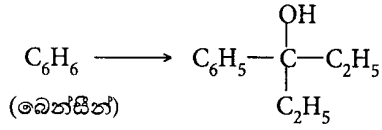
(05)

භාගික ආසවනය

(05)

07 ප්‍රශ්නය

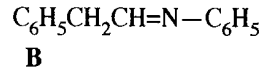
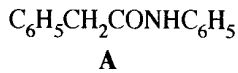
7. (a) ලයිස්තුවේ දී ඇති රසායනික ද්‍රව්‍ය පමණක් භාවිත කර, පහත සඳහන් පරිවර්තනය සිදු කළ හැක්කේ කෙසේ දැයි පෙන්වන්න.



රසායනික ද්‍රව්‍ය ලයිස්තුව
 KMnO₄, PBr₃, Mg, වියළි ඊතර්, CH₃Cl,
 C₂H₅OH, නිර්ජලීය AlCl₃, සාන්ද්‍ර H₂SO₄

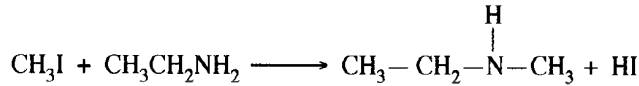
(ලකුණු 5.0 යි)

(b) ආරම්භක කාබනික ද්‍රව්‍යය ලෙස **A** පමණක් භාවිත කර, පියවර 7 කට අඩු පියවර සංඛ්‍යාවකින් **B** සංයෝගය සංශ්ලේෂණය කළ හැක්කේ කෙසේ දැයි පෙන්වන්න.



(ලකුණු 7.0 යි)

(c) මෙතිල් අයඩයිඩ් පහත දක්වා ඇති ආකාරයට එතිල් ඇමීන් සමග ප්‍රතික්‍රියා කරයි.

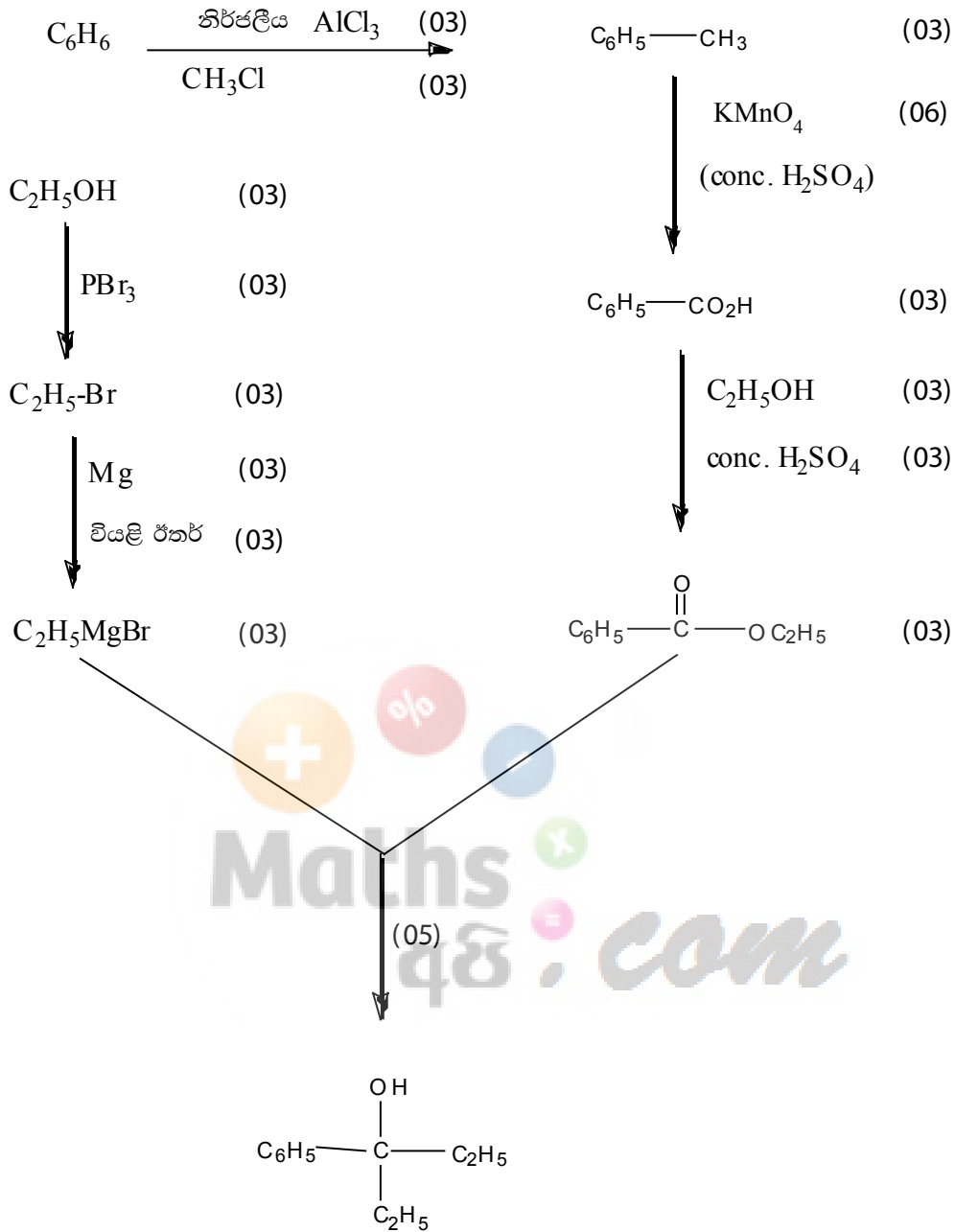


- (i) මෙම ප්‍රතික්‍රියාවේ දී එතිල් ඇමීන් ප්‍රතික්‍රියා කරන්නේ නියුක්ලියෝෆයිලයක් ලෙස ද නැතහොත් ඉලෙක්ට්‍රෝෆයිලයක් ලෙස ද යන්න සඳහන් කරන්න.
- (ii) වක්‍ර ඊතල යොදා ප්‍රතික්‍රියාවේ යන්ත්‍රණය දක්වන්න.
- (iii) ඇමීනවලට වඩා ඒමයිඩ් භාෂ්මකතාවයෙන් අඩු බව සැලකිල්ලට ගනිමින්, මෙතිල් අයඩයිඩ්, ප්‍රොපියනමයිඩ් සමග පහත දක්වා ඇති ආකාරයට ප්‍රතික්‍රියා හොඳින්ම මන්දැයි පහදන්න.



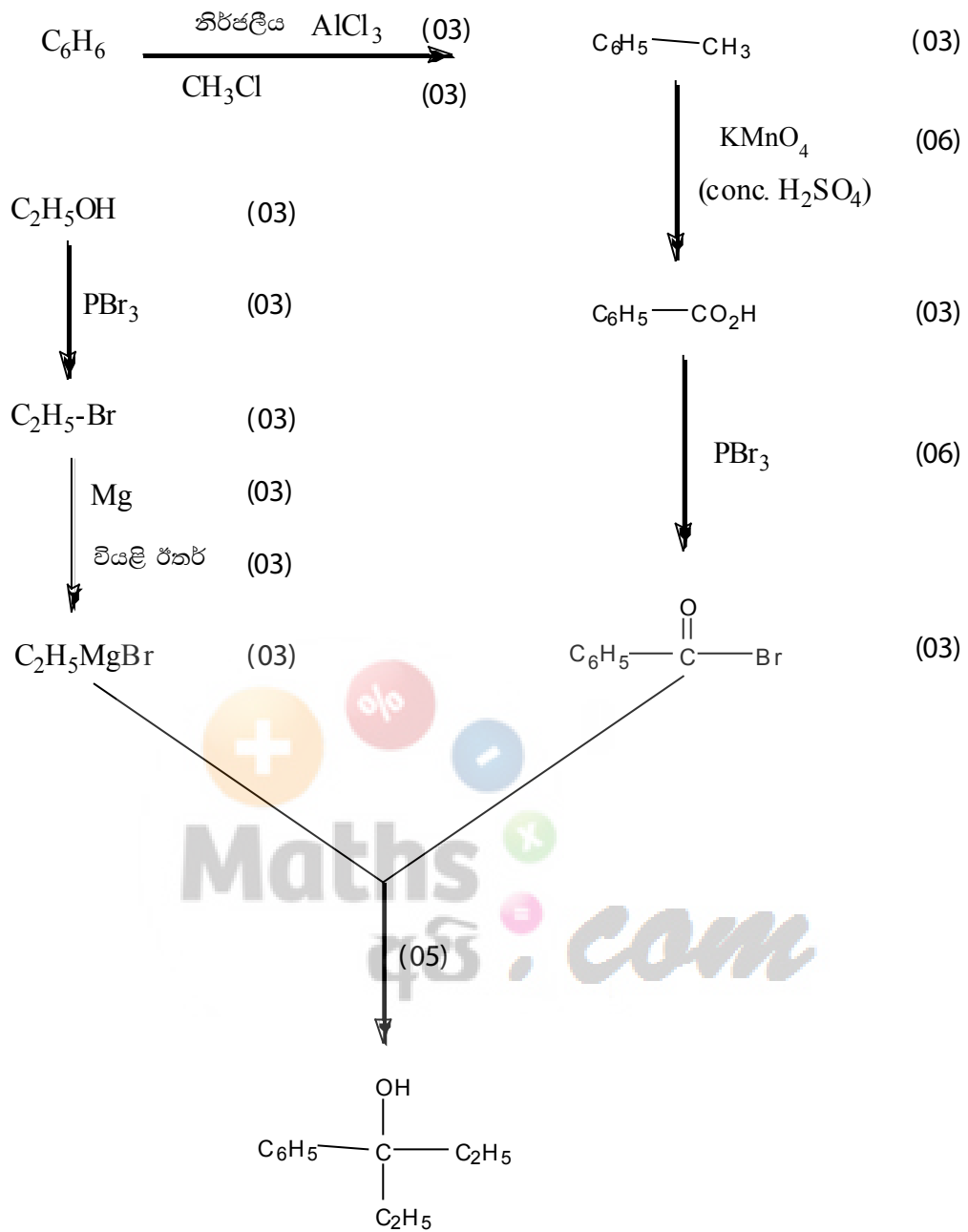
(ලකුණු 3.0 යි)

7. (a)



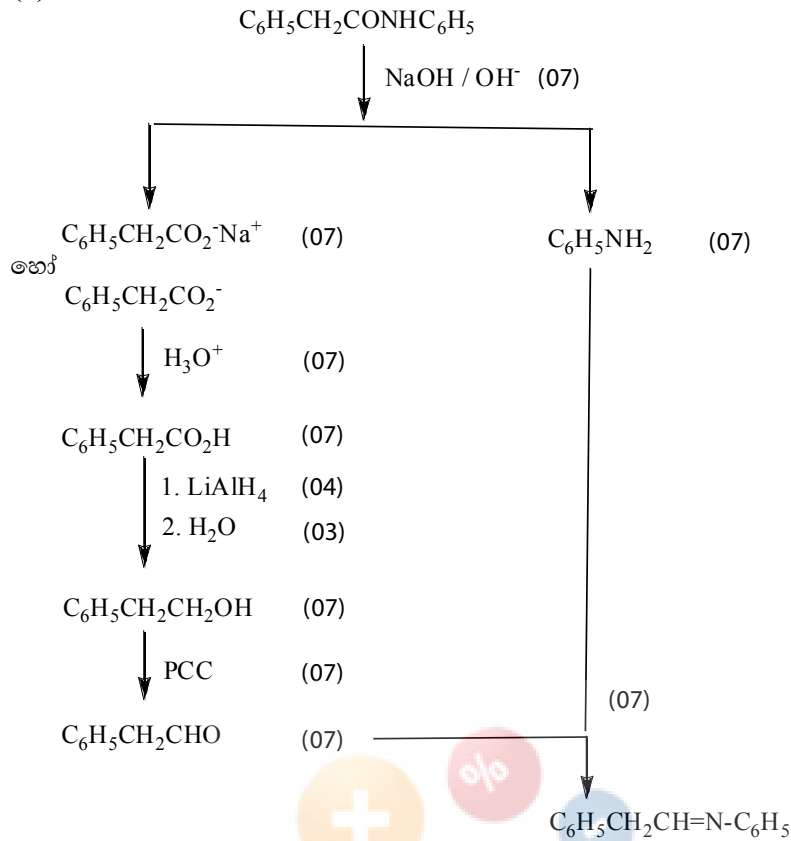
[(3×6) (48 + 02) 7 (a) සඳහා = ලකුණු 50)

විකල්ප පිළිතුර

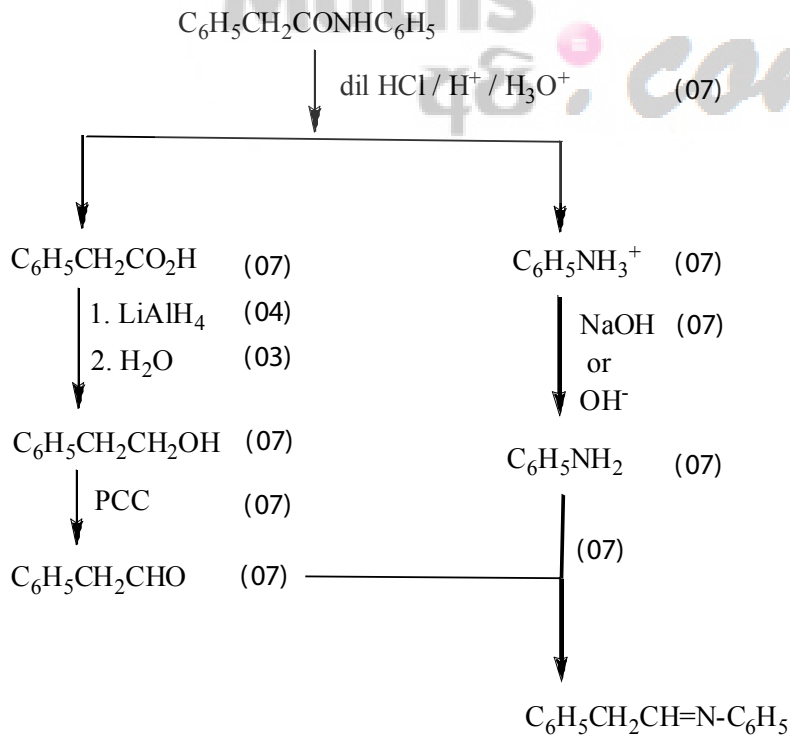


(7 (a) සඳහා = ලකුණු 50)

(b)

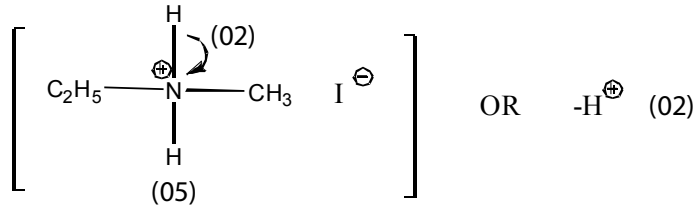
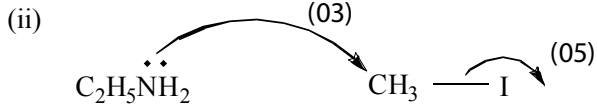


විකල්ප පිළිතුර



(7 (b) 7 × 10 සඳහා = ලකුණු 70)

(c) (i) නියුක්ලියෝෆිලික් (05)



(iii) ප්‍රොපියනමයිඩ් හි N මත ඇති එකසර ඉලෙක්ට්‍රෝන යුගලය නියුක්ලියෝෆිලික් ප්‍රතික්‍රියාවට සහභාගි වීමට හැකියාවක් නැත./ වීමේ හැකියාව අඩු වේ. (05)

හේතුව

එය $> = 0$ සමග විස්ථානගත වී ඇති බැවින්, (05)

හෝ

N මත ඇති එකසර ඉලෙක්ට්‍රෝන යුගලය $C=O$ ද්විත්ව බන්ධනය/ π බන්ධනය සමඟ අතිවිභාදනය වීම නිසා

හෝ

සම්ප්‍රයුක්තතාවය හේතුවෙන්

හෝ



(7 (c) සඳහා = ලකුණු 30)

(7 සඳහා මුළු ලකුණු 150)

C කොටස – රචනා

ප්‍රශ්න දෙකකට පමණක් පිළිතුරු සපයන්න. (එක් එක් ප්‍රශ්නයට **ලකුණු 15** බැගින් ලැබේ.)

8. (a) **M** නම් ලෝහය ආවර්තිතා වගුවේ *s*-ගොනුවට අයත් වේ. වැඩිපුර ඔක්සිජන් වායුව ඇති විට එය කහ පැහැති දැල්ලක් සහිත ව දහනය වී **M₁** සනයක් ලබා දෙයි. **M₁** සිසිල් ජලය සමග පිරියම් කළ විට, **M₂** පැහැදිලි භාෂ්මික ද්‍රාවණයක් හා **M₃** සහසංයුජ සංයෝගයක් ලබා දෙයි. **M₃** ආම්ලික Ag₂O සමග ප්‍රතික්‍රියා කර අවර්ණ ද්විපරමාණුක **M₄** වායුව ලබා දෙයි. වැඩිපුර **M₂**, **T** ලෝහය සමග ප්‍රතික්‍රියා කර අවර්ණ ද්විපරමාණුක **M₅** වායුව සහ ජලයේ ද්‍රාව්‍ය **M₆** සංයෝගය ලබා දෙයි. **M₆** හි ජලීය ද්‍රාවණයකට තනුක HCl බිංදුව බැගින් එකතු කළ විට වැඩිපුර අම්ලයෙහි ද්‍රාවණය වන, **M₇** සුදු පේලටිනීය අවක්ෂේපයක් ලබා දෙයි. **M₇** තනුක NH₄OH හි ද්‍රාව්‍ය නොවේ.

- (i) **M, M₁, M₂, M₃, M₄, M₅, M₆, M₇** සහ **T** හඳුනාගන්න.
- (ii) **M₁** උණු ජලය සමග ප්‍රතික්‍රියා කළ විට ලැබෙන ඵල ප්‍රරෝකථනය කරන්න. (ලකුණු 5.0 යි)

(b) **Q** (මවුලික ස්කන්ධය = 248 g mol⁻¹) නැමති ස්ඵටිකරූපී අයනික අකාබනික සංයෝගය මද වශයෙන් රත් කළ විට නිර්ජලීය CuSO₄ නිල්පැහැ ගත්වන ද්‍රව්‍යයක් මුදා හරී.

Q හි ජලීය ද්‍රාවණයක් සමග (1), (2) සහ (3) පරීක්ෂා තුනක් සිදු කරන ලදී. පරීක්ෂා සහ නිරීක්ෂණ පහත දී ඇත.

පරීක්ෂාව	නිරීක්ෂණය
(1) තනුක HCl එකතු කරන ලදී.	අවර්ණ වායුවක් පිට වූ අතර ද්‍රාවණයේ ආවිලනාවයක් ඇති විය. මෙම වායුවෙහි Mg පටියක් දහනය කිරීමේ දී සුදු සහ කහ පැහැති සනයන් දෙකක් ලැබේ.
(2) AgNO ₃ ද්‍රාවණය බිංදුව බැගින් එකතු කරන ලදී.	සුදු අවක්ෂේපයක්. එය රත් කළ විට කළු පැහැති වේ.
(3) Pb(NO ₃) ₂ ද්‍රාවණය බිංදුව බැගින් එකතු කරන ලදී.	සුදු අවක්ෂේපයක්. එය රත් කළ විට කළු පැහැති වේ.

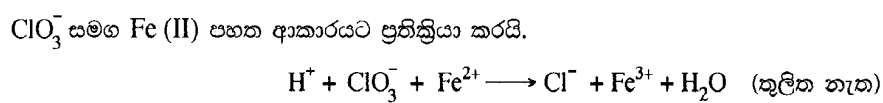
- (i) **Q** හඳුනාගෙන එහි ඇතායනය සඳහා වඩාත් ම පිළිගත හැකි ලුච්ස් ව්‍යුහය අදින්න.
 - (ii) (1), (2) සහ (3) පරීක්ෂාවල දී සිදු වන ප්‍රතික්‍රියා සඳහා තුලිත රසායනික සමීකරණ ලියන්න. සමීකරණයන්හි, අවක්ෂේප ඊතලයකින් (↓) පෙන්වන්න.
 - (iii) **Q** හි ප්‍රයෝජන දෙකක් දෙන්න.
- (H = 1, O = 16, Na = 23, S = 32) (ලකුණු 5.0 යි)

(c) **X** මිශ්‍රණයෙහි KClO₃ හා KCl ස්කන්ධය අනුව ප්‍රතිශතය නිර්ණය කිරීම සඳහා පහත සඳහන් ක්‍රියාපිළිවෙළ භාවිත කරන ලදී. **X** මිශ්‍රණයෙහි KClO₃, KCl හා ජලයේ ද්‍රාව්‍ය නිෂ්ක්‍රීය ද්‍රව්‍යයක් අඩංගු වේ.

X හි 1.100 g ස්කන්ධයක් 250 cm³ පරිමාමිතික ප්ලාස්ටික් බෝට්ලක, ආසුරන ජලය 50 cm³ ක දිය කර, අවසාන පරිමාව 250.0 cm³ දක්වා ආසුරන ජලයෙන් තනුක කරන ලදී. (**Y ද්‍රාවණය**)

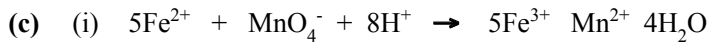
ClO₃⁻, Cl⁻ බවට ඔක්සිහරණය කිරීම සඳහා මෙම ද්‍රාවණයෙන් 25.00 cm³ කොටසක් SO₂(g) සමග පිරියම් කරන ලදී. ද්‍රාවණය නැටවීමෙන් වැඩිපුර SO₂(g) ඉවත් කරන ලදී. සම්පූර්ණ Cl⁻, AgCl ලෙස අවක්ෂේප කිරීම සඳහා ජලීය AgNO₃ මෙම ද්‍රාවණයට එක් කරන ලදී. ඉන්පසු අවක්ෂේපය පෙරා, ආසුරන ජලයෙන් සෝදා, නියත ස්කන්ධයක් ලැබෙන තුරු 105 °C දී වියළන ලදී. සැදුණු AgCl අවක්ෂේපයේ ස්කන්ධය 0.135 g වේ.

Y ද්‍රාවණයෙන් තවත් 25.00 cm³ කොටසක්, ආම්ලික මාධ්‍යයේ දී 0.20 mol dm⁻³ Fe (II) ද්‍රාවණයක, 30.00 cm³ සමග රත් කරන ලදී. ප්‍රතික්‍රියා නොවූ Fe (II) ඔක්සිකරණය කිරීම සඳහා අවශ්‍ය වූ 0.02 mol dm⁻³ KMnO₄ පරිමාව 20.00 cm³ වේ.



X හි අඩංගු KClO₃ හා KCl ස්කන්ධය අනුව ප්‍රතිශතය වෙන වෙන ම ගණනය කරන්න.

(O = 16, Cl = 35.5, K = 39, Ag = 108) (ලකුණු 5.0 යි)




$$\text{KMnO}_4 \text{ මවුල ප්‍රමාණය} = \frac{0.02}{1000} \times 20 \quad (02)$$

$$\text{එබැවින්, ඉතිරි } \text{Fe}^{2+} \text{ මවුල ප්‍රමාණය} = 5 \times \frac{0.02}{1000} \times 20 \quad (03)$$

$$\text{එකතු කරන ලද } \text{Fe}^{2+} \text{ මවුල ප්‍රමාණය} = \frac{0.02}{1000} \times 30 \quad (03)$$

$$\text{එබැවින් } \text{ClO}_3^- \text{ සමග ප්‍රතික්‍රියා කළ } \text{Fe}^{2+} \text{ මවුල} = \left(\frac{0.02}{1000} \times 30 \right) - \left(5 \times \frac{0.02}{1000} \times 20 \right) \quad (03)$$



$$\text{එබැවින් } \text{ClO}_3^- \text{ මවුල ප්‍රමාණය} = \frac{\left(\frac{0.02}{1000} \times 30 \right) - \left(5 \times \frac{0.02}{1000} \times 20 \right)}{6} \quad (03)$$

$$= 0.00067$$

$$\text{සාපේක්ෂ අණුක ස්කන්ධය } \text{AgCl} = 143.5, \text{ KCl} = 74.5, \text{ KClO}_3 = 122.5 \quad (01 \times 03)$$

$$\text{AgCl සෑදීම සඳහා } \text{ClO}_3^- \text{ මගින් ලබාදෙන } \text{Cl}^- \text{ මවුල} = 0.00067 \quad (03)$$

$$\begin{aligned} \text{එම } \text{Cl}^- \text{ මගින් ලැබෙන AgCl හි ස්කන්ධය} &= 0.00067 \times 143.5 \text{ g} \\ &= 0.096 \text{ g} \end{aligned} \quad (03)$$

$$\begin{aligned} \text{KCl මගින් මගින් ලැබෙන AgCl හි ස්කන්ධය} &= 0.135 - 0.096 \text{ g} \\ &= 0.039 \text{ g} \end{aligned} \quad (03)$$

$$\begin{aligned} 25.0 \text{ cm}^3 \text{ ක ඇති KClO}_3 \text{ හි ස්කන්ධය} &= 0.00067 \times 122.5 \text{ g} \\ &= 0.082 \text{ g} \end{aligned} \quad (03)$$

$$250.0 \text{ cm}^3 \text{ ක ඇති KClO}_3 \text{ හි ස්කන්ධය} = 0.82 \text{ g} \quad (03)$$

$$\begin{aligned} 25.0 \text{ cm}^3 \text{ ක ඇති KCl හි ස්කන්ධය} &= \frac{0.039}{143.5} \times 74.5 \text{ g} \\ &= 0.020 \text{ g} \end{aligned} \quad (03)$$

$$250.0 \text{ cm}^3 \text{ ක ඇති KCl හි ස්කන්ධය} = 0.20 \text{ g} \quad (03)$$

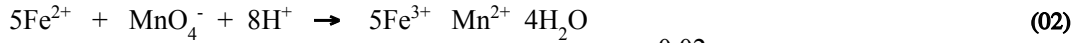
$$\begin{aligned} \text{KClO}_3 \text{ හි ස්කන්ධය } \% &= \frac{0.82}{1.1} \times 100 \\ &= 74.6 \end{aligned} \quad (03)$$

$$\begin{aligned} \text{KCl හි ස්කන්ධය } \% &= \frac{0.20}{1.1} \times 100 \\ &= 18.2 \end{aligned} \quad (03)$$

සැ.යු.: අනුමාපනයේ දී Cl^- මගින් ඇතිවන බලපෑම නොසලකා හරින ලදී.

(8 (c) සඳහා = ලකුණු 50)

විකල්ප පිළිතුර

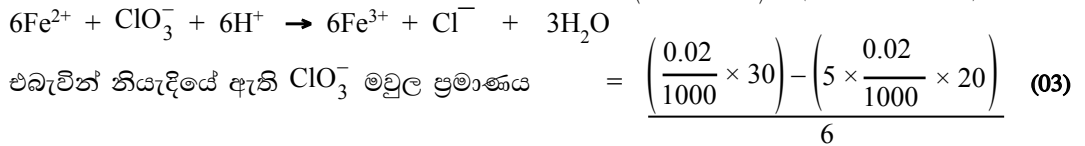


$$\text{KMnO}_4 \text{ මවුල} = \frac{0.02}{1000} \times 20 \quad (02)$$

$$\text{එබැවින්, ඉතිරි } \text{Fe}^{2+} \text{ මවුල ප්‍රමාණය} = 5 \times \frac{0.02}{1000} \times 20 \quad (03)$$

$$\text{එකතු කරන ලද } \text{Fe}^{2+} \text{ මවුල ප්‍රමාණය} = \frac{0.02}{1000} \times 30 \quad (03)$$

$$\text{එබැවින් } \text{ClO}_3^- \text{ සමග ප්‍රතික්‍රියා කල } \text{Fe}^{2+} \text{ මවුල ප්‍රමාණය} = \left(\frac{0.02}{1000} \times 30 \right) - \left(5 \times \frac{0.02}{1000} \times 20 \right) \quad (03)$$



$$\text{එබැවින් නියැදියේ ඇති } \text{ClO}_3^- \text{ මවුල ප්‍රමාණය} = \frac{\left(\frac{0.02}{1000} \times 30 \right) - \left(5 \times \frac{0.02}{1000} \times 20 \right)}{6} \quad (03)$$

$$= 0.00067$$

$$\text{ClO}_3^- \text{ මගින් සෑදුණු } \text{AgCl} \text{ මවුල ප්‍රමාණය} = 0.00067 \quad (03)$$

$$\text{AgCl හි සාපේක්ෂ සූත්‍ර ස්කන්ධය} = 143.5 \quad (01)$$

$$\text{අවක්ෂේපයේ ඇති } \text{AgCl} \text{ මවුල ප්‍රමාණය} = \frac{0.135}{143.5} = 9.4 \times 10^{-4} \quad (03)$$

$$\text{KClO}_3 \text{ හි සාපේක්ෂ සූත්‍ර ස්කන්ධය} = 122.5 \quad (01)$$

$$25.0 \text{ cm}^3 \text{ ක ඇති } \text{KClO}_3 \text{ හි ස්කන්ධය} = 0.00067 \times 122.5 \text{ g} \quad (03)$$

$$250.0 \text{ cm}^3 \text{ ක ඇති } \text{KClO}_3 \text{ හි ස්කන්ධය} = 0.00067 \times 10 \times 122.5 \text{ g} \quad (03)$$

$$\text{KClO}_3 \text{ හි ස්කන්ධය \%} = \frac{0.00067 \times 10 \times 122.5}{1.10} \times 100$$

$$= 74.6 \quad (03)$$

$$\text{AgCl අවක්ෂේපයේ ඇති KCl මවුල (25.0 cm}^3 \text{ හි)} = \left(\frac{0.135}{143.5} - 0.00067 \right) \quad (03)$$

$$\text{KCl හි සාපේක්ෂ සූත්‍ර ස්කන්ධය} = 74 \quad (01)$$

$$25.0 \text{ cm}^3 \text{ ක ඇති KCl හි ස්කන්ධය} = \left(\frac{0.135}{143.5} - 0.00067 \right) \times 74.5 \text{ g} \quad (03)$$

$$250.0 \text{ cm}^3 \text{ ඇති KCl හි ස්කන්ධය} = \left(\frac{0.135}{143.5} - 0.00067 \right) \times 10 \times 74.5 \text{ g} \quad (03)$$

$$= 20.0 \quad (03)$$

$$\text{KCl හි ස්කන්ධ ප්‍රතිශතය} = \frac{0.20}{1.1} \times 100 = 18.2 \quad (03)$$

සැ.යු.:

1. උපකල්පනය : අනුමාපනයේ දී Cl^- මගින් ඇතිවන බලපෑම නොසලකා හරින ලදී.

2. KCl හි ස්කන්ධ % 18.1 - 18.6 හා KClO_3 හි ස්කන්ධ % 74.2 - 74.7 ලෙස පිළිගත හැකි ය.

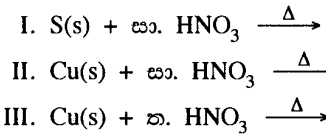
(8 (c) සඳහා = ලකුණු 50)

(8 සඳහා මුළු ලකුණු 150)

09 ප්‍රශ්නය

9. (a) පහත සඳහන් ප්‍රශ්න නයිට්‍රික් අම්ලයෙහි ගුණ සහ එය නිපදවීමට යොදා ගන්නා ඔස්වල්ඩ්ගේ ක්‍රියාවලිය මත පදනම් වේ.

- (i) මෙම ක්‍රියාවලියේ භාවිත කරන අමුද්‍රව්‍ය සඳහන් කරන්න.
- (ii) මෙම ක්‍රියාවලියේ සිදු වන ප්‍රතික්‍රියා සඳහා අදාළ තත්ත්ව සහිත ව තුලිත රසායනික සමීකරණ ලියන්න.
- (iii) ඉහත (i) හි හඳුනාගත් එක අමුද්‍රව්‍යයක අඩංගු ද්විපරමාණුක වායු මවුල 1000 කින් නිෂ්පාදනය කළ හැකි උපරිම නයිට්‍රික් අම්ල ප්‍රමාණය ගණනය කරන්න.
- (iv) නයිට්‍රික් අම්ලයේ භාවිත තුනක් දෙන්න.
- (v) සංශුද්ධ සාන්ද්‍ර නයිට්‍රික් අම්ලය අවර්ණ ද්‍රවයකි. එය ආලෝකයට නිරාවරණය කළ විට කහ පැහැයක් ගනී. මෙම නිරීක්ෂණය තුලිත රසායනික සමීකරණයක් උපයෝගී කොට පහදා දෙන්න.
- (vi) පහත දැක්වෙන ප්‍රතික්‍රියා සඳහා තුලිත රසායනික සමීකරණ දෙන්න.



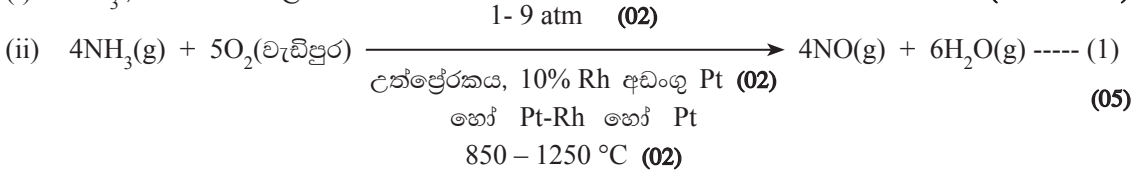
(ලකුණු 7.5 යි)

(b) පහත සඳහන් ප්‍රශ්න පදනම් වී ඇත්තේ N_2 (පෘථිවි වායුගෝලයේ ප්‍රධාන සංඝටකය) සහ විවිධ පාරිසරික ගැටලුවලට දායක වන නයිට්‍රජන් අඩංගු සංයෝග මත ය.

- (i) N_2 වල නිෂ්ක්‍රීය ස්වභාවය හේතුවෙන් N_2 තිර කිරීමට විශේෂ තත්ත්වයන් අවශ්‍ය වේ. N_2 නිෂ්ක්‍රීය වන්නේ මන්දැයි පැහැදිලි කරන්න.
- (ii) N_2 තිර කරන ස්වාභාවික ක්‍රියාවලි දෙක සඳහන් කරන්න.
- (iii) N_2 තිර කිරීමට යොදා ගන්නා ප්‍රධාන කාර්මික ක්‍රියාවලියේ නම සඳහන් කරන්න.
- (iv) ප්‍රකාශ රසායනික ධූමිකාවට දායක වන නයිට්‍රජන් සංයෝග දෙක හඳුනාගන්න.
- (v) ඉහත (iv) හි ඔබ සඳහන් කළ සංයෝග, ප්‍රකාශ රසායනික ධූමිකාවට දායක වන ආකාරය පහදා දෙන්න.
- (vi) ප්‍රකාශ රසායනික ධූමිකාවට දායක වන නයිට්‍රජන් අඩංගු කාබනික සංයෝග දෙකක් හඳුනාගන්න.
- (vii) ප්‍රකාශ රසායනික ධූමිකාව මගින් පරිසරය මත ඇති වන අහිතකර ආචරණ දෙකක් නම් කරන්න.
- (viii) හරිතාගාර ආචරණයට දායක වන ප්‍රධාන නයිට්‍රජන් සංයෝගය හඳුනාගන්න.
- (ix) අම්ල වැසිවලට දායක වන වායුමය නයිට්‍රජන් සංයෝග දෙක හඳුනාගන්න.
- (x) සංයෝගවල තාප විශේෂනයෙන් N_2 වායුව පරීක්ෂණාගාරයේ දී පිළියෙළ කළ හැක. මෙවැනි ප්‍රතික්‍රියා දෙකක් සඳහා තුලිත රසායනික සමීකරණ දෙන්න.

(ලකුණු 7.5 යි)

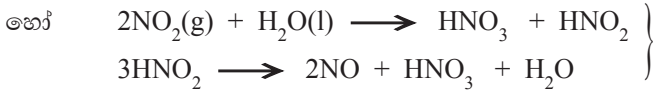
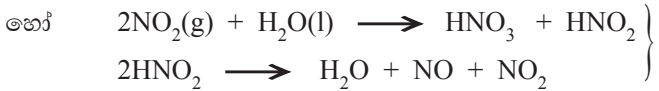
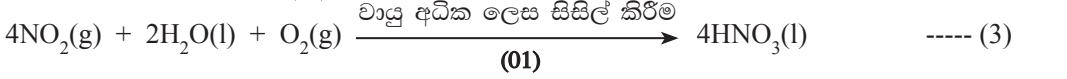
9. (a) (i) NH_3 , වාතය හා ජලය (03 + 03 + 03)



මිශ්‍රණ 150°C ට අඩු හෝ සමාන උෂ්ණත්වයකට (01) සිසිල් කෙරේ. (01)

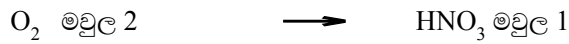
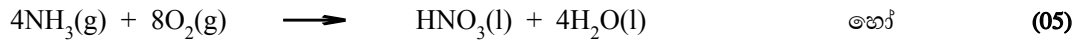


(සිසිල් වාතය) (01)



සැ.යු. : භෞතික අවස්ථා අවශ්‍ය නැත.

(iii) (1) + (2) × 2 + (3)



එබැවින් O_2 මවුල 1000 කින් HNO_3 මවුල $4/8 \times 1000 = 500$ ලැබේ. හෝ (05)

එබැවින් O_2 මවුල 1000 කින් HNO_3 මවුල $1/2 \times 1000 = 500$ ලැබේ.

(iv) ★ පොහොර නිෂ්පාදනයේ දී (NH_4NO_3 , KNO_3)

★ පුපුරණ ද්‍රව්‍ය නිෂ්පාදනයේ දී (TNT, TNG, NH_4NO_3)

★ ආහාර පරිරක්ෂණයට (NaNO_2 , NaNO_3)

★ රාජ අම්ලය සෑදීම සඳහා

★ ජායාරූප පටල සේදීම සඳහා අවශ්‍ය AgNO_3 සෑදීමට

★ ප්ලාස්ටික් සෑදීමට

★ ඖෂධ

★ ලැකර් තීන්ත

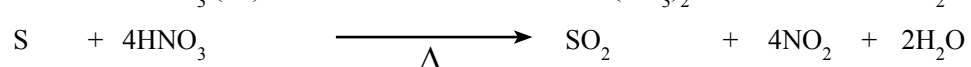
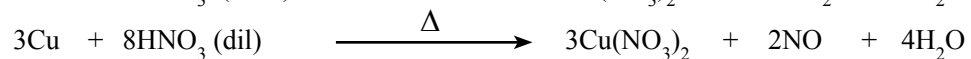
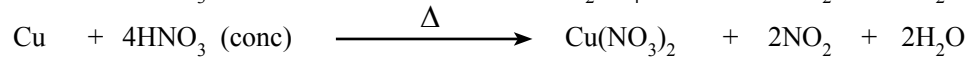
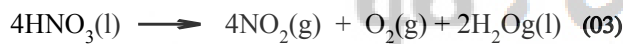
★ පැස්සුම් කටයුතු වලදී පාෂාණ පිරිසිදු කිරීමට

★ වෙට් බෙහෙත් නිපදවීමට (KNO_3)

(03 × 03)

(v) HNO_3 ආලෝකයට (02) නිරාවරණය කළ විට වියෝජනය වේ.

එහි දී NO_2 සෑදීම නිසා කහ පැහැයක් ඇති වේ. (02)



(05 × 03)

(9 (a) සඳහා = ලකුණු 75)

(b) (i) N_2 හි ත්‍රිත්ව බන්ධනයක් ඇත. (03) එබැවින් එහි බන්ධන විඝටන ශක්තිය ඉහළ ය./

බන්ධනය ජේදනය කිරීමට අපහසු ය. (03)

(ii) 1. අකුණු ගැසීම (වායු ගෝලීය තිර කිරීම) (04)

2. බැක්ටීරියා මගින් ශාක තුළ නයිට්‍රජන් තිර කිරීම (ජෛවීය තිර කිරීම) (04)

(iii) හේබර් ක්‍රමය (04)

(iv) NO , NO_2 (04 + 04)



(M අමතර ශක්තිය අවශ්‍යවන කරන බාහිර ද්‍රව්‍යයකි. උදා: වායු, වාතයේ අඩංගු අංශු)



NO_2 , NO , O_3 , O හා OH මගින් (මින් ම තුනක් 01 + 01 + 01) වාතයේ අඩංගු රසායනික ද්‍රව්‍ය (01) විවිධ කාබනික සංයෝග බවට පත් කරයි. (01)

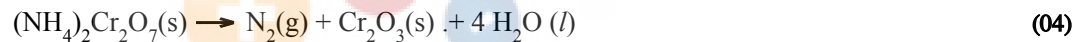
(vi) PAN (peroxyacetyl nitrate), PBN (peroxybenzoyl nitrate), CH_3ONO_2 (methyl nitrate).

(මින් මින් ම දෙකක්) (04 + 04)

(vii) වාතයේ පාරදෘශ්‍ය බව අඩු වේ. ශාකවලට විෂ සහිත වේ. රෙදිපිළි හා රබර්වලට බලපෑම් ඇති කරයි. (02 + 02)

(viii) N_2O (04)

(ix) NO , NO_2 (04)



සැ.යු. : භෞතික අවස්ථා අවශ්‍ය නැත.

(9 (b) සඳහා = ලකුණු 75)

(9 සඳහා මුළු ලකුණු 150)

10 ප්‍රශ්නය

10. (a) A, B, C හා D යනු ක්‍රෝමියම්හි සංගත සංයෝග (සංකීර්ණ සංයෝග) වේ. ඒවාට අෂ්ටතලීය ජ්‍යාමිතියක් ඇත. සියලු ම සංයෝග එක ක්‍රෝමියම් අයනයකින්, සහසංයුජ හා/හෝ අයනික විය හැකි ක්ලෝරීන් පරමාණු තුනකින් සහ ජල අණුවලින් සමන්විත වේ. සංයෝගවල ජල අණු සංඛ්‍යාව විචල්‍ය වේ. සියලු ම සංයෝගවල ක්‍රෝමියම් අයනයේ ඔක්සිකරණ අවස්ථාව එක ම වේ. A, B, C හා D හි සංකීර්ණ අයන කොටසෙහි (ලෝහ අයනය හා එයට සංගත වී ඇති ලිගන්) ආරෝපණ පිළිවෙළින් +3, +2, +1 හා ශුන්‍ය වේ.

ඥායු : ජ්‍යාමිතික සමාවයවික නොසලකා හරින්න.

- (i) සංගත සංයෝගවල ක්‍රෝමියම්හි ඔක්සිකරණ අවස්ථාව දෙන්න.
- (ii) මෙම සංයෝගවල ක්‍රෝමියම්හි ඉලෙක්ට්‍රෝනික වින්‍යාසය ලියන්න.
- (iii) A, B, C සහ D හි ව්‍යුහ සූත්‍ර ලියන්න.

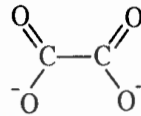
ඥායු : ජ්‍යාමිතික සමාවයවික නොසලකා හරින්න.

(iv) A හි IUPAC නම දෙන්න.

(v) A හා D එකිනෙකින් වෙන් කර හඳුනා ගැනීම සඳහා උපයෝගී කර ගත හැකි රසායනික පරීක්ෂාවක් දෙන්න.

ඥායු : පරීක්ෂාව සමග නිරීක්ෂණය ද සඳහන් කරන්න.

(vi) ඔක්සලේට් අයනයේ ව්‍යුහය පහත දී ඇත.



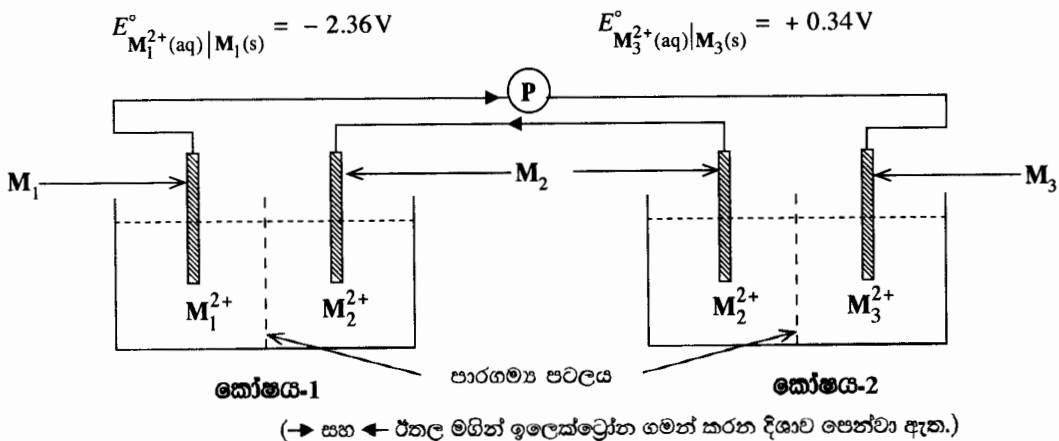
ඔක්සලේට් අයනය (OX)

ඔක්සලේට් අයනය, සෑණ ආරෝපිත ඔක්සිජන් දෙකකින්ම ක්‍රෝමියම් අයනයට සංගත වී අෂ්ටතලීය ජ්‍යාමිතියක් ඇති E, සංකීර්ණ අයන කොටස සාදයි. E හි ව්‍යුහ සූත්‍රය ලියන්න. (E හි ක්‍රෝමියම් අයනයට A-D සංයෝගවල ක්‍රෝමියම්හි ඔක්සිකරණ අවස්ථාවම ඇත.)

ඥායු : ඔබගේ ව්‍යුහ සූත්‍රයේ ඔක්සලේට් අයනය 'OX' යන කෙටි හැඳින්වීමෙන් පෙන්වුම් කරන්න.

(ලකුණු 7.5 යි)

(b) 25 °C දී ශ්‍රේණිගතව සම්බන්ධ කර ඇති විද්‍යුත් රසායනික කෝෂ දෙකක් පහත රූපයේ පෙන්වා ඇත. M₁, M₂ සහ M₃ ලෝහ පිළිවෙළින් ඒවායේ M₁²⁺ (aq), M₂²⁺ (aq) සහ M₃²⁺ (aq) අයනවල ජලීය ද්‍රාවණවල ගිල්වා ඇත. සියලු ම ද්‍රාවණවල සාන්ද්‍රණ 1.0 mol dm⁻³ වේ. M₁ සහ M₃ ලෝහවල සම්මත ඉලෙක්ට්‍රෝඩ විභව පහත දී ඇත.



- (i) එක් එක් කෝෂයේ ඇනෝඩය සහ කැතෝඩය හේතු දක්වමින් හඳුනාගන්න.
- (ii) එක් එක් කෝෂයේ ඇනෝඩය සහ කැතෝඩය මත සිදු වන ප්‍රතික්‍රියා ලියා දක්වන්න.
- (iii) P සංඛ්‍යාංක වෝල්ටීම්ටරයේ පාඨාංකය ගණනය කරන්න.
- (iv) කෝෂය - 1 හි විද්‍යුත් ගාමක බලය ($E_{\text{cell}-1}^{\circ}$) +1.60 V බව සොයා ගෙන ඇත. $M_2^{2+}(\text{aq})/M_2(\text{s})$ ඉලෙක්ට්‍රෝඩයේ සම්මත ඉලෙක්ට්‍රෝඩ විභවය ($E_{M_2^{2+}(\text{aq})|M_2(\text{s})}^{\circ}$) ගණනය කරන්න.
- (v) කෝෂය - 2 හි විද්‍යුත් ගාමක බලය ($E_{\text{cell}-2}^{\circ}$) ගණනය කරන්න.
- (vi) ඉහත පද්ධතියට අමතරව M_4 ලෝහයක් සහ $M_4^{2+}(\text{aq}, 1.0 \text{ mol dm}^{-3})$ ද්‍රාවණයක් පමණක් ඔබට සපයා ඇත්නම් $E_{M_4^{2+}(\text{aq})|M_4(\text{s})}^{\circ}$ හි අගය නිර්ණය කිරීම සඳහා පරීක්ෂණාත්මක ක්‍රමයක් කෙටියෙන් යෝජනා කරන්න. (ලකුණු 7.5 යි)

10. (a) (i) +3 හෝ +III / Cr^{3+} (05)

(ii) $1s^2 2s^2 2p^6 3s^2 3p^6 3d^3$ (05)

- (iii) A $[\text{Cr}(\text{H}_2\text{O})_6]\text{Cl}_3$ හෝ $[\text{Cr}(\text{H}_2\text{O})_6]^{3+} 3\text{Cl}^-$ (05)
- B $[\text{CrCl}(\text{H}_2\text{O})_5]\text{Cl}_2$ හෝ $[\text{Cr}(\text{H}_2\text{O})_5\text{Cl}]\text{Cl}_2$ හෝ (05)
- $[\text{CrCl}(\text{H}_2\text{O})_5]^{2+} 2\text{Cl}^-$ හෝ $[\text{Cr}(\text{H}_2\text{O})_5\text{Cl}_2]^{2+} 2\text{Cl}^-$
- C $[\text{CrCl}_2(\text{H}_2\text{O})_4]\text{Cl}$ හෝ $[\text{Cr}(\text{H}_2\text{O})_4\text{Cl}_2]\text{Cl}$ හෝ (05)
- $[\text{CrCl}_2(\text{H}_2\text{O})_4]^+ \text{Cl}^-$ හෝ $[\text{Cr}(\text{H}_2\text{O})_4\text{Cl}_2]^+ \text{Cl}^-$
- D $[\text{CrCl}_3(\text{H}_2\text{O})_3]$ හෝ $[\text{Cr}(\text{H}_2\text{O})_3\text{Cl}_3]$ (05)

සැ.යු. : ඉහත සූත්‍ර වෙනුවට ජ්‍යාමිතික හැඩය නිරූපණය කරමින් අදින ලද ව්‍යුහ ද පිළිගත හැකි ය.

(iv) hexaaquachromium(III) chloride (සැ.යු.: අකුරු නිවැරදි ව ලියා තිබිය යුතු ය.) (05)

(v) පරීක්ෂාව : AgNO_3 හෝ $\text{Pb}(\text{NO}_3)_2$ ද්‍රාවණයක් එක් කිරීම (05)

නිරීක්ෂණය : A සමග සුදු අවක්ෂේපයක් ලැබේ. (of $\text{AgCl}/\text{PbCl}_2$)
D සමග අවක්ෂේපයක් නැත. (05)

හෝ A පමණක් සුදු අවක්ෂේපයක් දෙයි.

හෝ පරීක්ෂාව : ක්‍රෝමයිල් ක්ලෝරයිඩ් පරීක්ෂාව (05)

නිරීක්ෂණය : A සමග තද රතු වායුවක් පිට වේ. (05)

D සමග තද රතු වායුවක් පිට නොවේ. (05)

(vi) $[\text{Cr}(\text{ox})_3]^{3-} / [\text{Cr}(\text{ox})_2(\text{H}_2\text{O})_3]^- / [\text{Cr}(\text{ox})(\text{H}_2\text{O})_4]^+$ (05)

සැ.යු. : $[\text{Cr}(\text{C}_2\text{O}_4)_3]^{3-}$ සඳහා ලකුණු (05) පමණක් ප්‍රදානය කරන්න.

(10 (a) සඳහා = ලකුණු 75)

(b) (i) $E^{\circ}_{M_4^{2+}(aq)/M_4(s)}$, $E^{\circ}_{M_1^{2+}(aq)/M_1(s)}$ ට වඩා සාණය. (08)

හෝ

$$E^{\circ}_{M_1^{2+}(aq)/M_1(s)} < E^{\circ}_{M_4^{2+}(aq)/M_4(s)}$$

එබැවින් M_1 හි දී ඔක්සිකරණය හා M_3 හි දී ඔක්සිහරණය සිදු වේ. (02)

ඇනෝඩයේ දී ඔක්සිකරණය හා කැතෝඩයේ දී ඔක්සිහරණය සිදු වේ. (02)

හෝ

M_1 වලින් ඉලෙක්ට්‍රෝන ඉවත් වේ (ඔක්සිකරණය), M_1 එබැවින් ඇනෝඩය වේ. (04)

M_3 මගින් ඉලෙක්ට්‍රෝන ලබා ගනී (ඔක්සිහරණය) M_3 එබැවින් කැතෝඩය වේ. (04)

එබැවින් කෝෂ - 1, ඇනෝඩය M_1 , කැතෝඩය M_2 (02)

කෝෂ - 2, ඇනෝඩය M_2 , කැතෝඩය M_3 (02)

(ii) කෝෂ - 1,



කෝෂ - 2,



(iii) $P = E^{\circ}_{M_3^{2+}(aq)/M_3(s)} - E^{\circ}_{M_1^{2+}(aq)/M_1(s)}$ හෝ $P = E^{\circ}_{\text{cathode}} - E^{\circ}_{\text{anode}}$ (04)

$= 0.34 - (-2.36) V$ (04)

$= 2.7 V$ (01 + 01)

හෝ

$P = E_{\text{cell-1}} + E_{\text{cell-2}}$ (04)

$= E^{\circ}_{M_2^{2+}(aq)/M_2(s)} - E^{\circ}_{M_1^{2+}(aq)/M_1(s)} + E^{\circ}_{M_3^{2+}(aq)/M_3(s)} - E^{\circ}_{M_2^{2+}(aq)/M_2(s)}$

$= E^{\circ}_{M_2^{2+}(aq)/M_2(s)} - (-2.36) + (+0.34) - E^{\circ}_{M_2^{2+}(aq)/M_2(s)}$ (04)

$= 2.7 V$ (01 + 01)

(භෞතික අවස්ථාව සඳහන් කර නොමැති නම් ලකුණු 04ක් අඩු කරන්න.)

(iv) $E^{\circ}_{\text{cell-2}} = E^{\circ}_{M_3^{2+}(aq)/M_3(s)} - E^{\circ}_{M_2^{2+}(aq)/M_2(s)}$ හෝ

$E^{\circ}_{\text{cell-2}} = E^{\circ}_{\text{cathode}} - E^{\circ}_{\text{anode}}$ (04)

$1.6 = E^{\circ}_{M_2^{2+}(aq)/M_2(s)} - (-2.36)$ (04)

$E^{\circ}_{M_2^{2+}(aq)/M_2(s)} = -0.76 V$ (03 + 01)

(v) $E_{\text{cell-2}}^{\circ} = E_{\text{M}_3^{2+}(\text{aq})/\text{M}_3(\text{s})}^{\circ} - E_{\text{M}_2^{2+}(\text{aq})/\text{M}_2(\text{s})}^{\circ}$ හෝ (04)

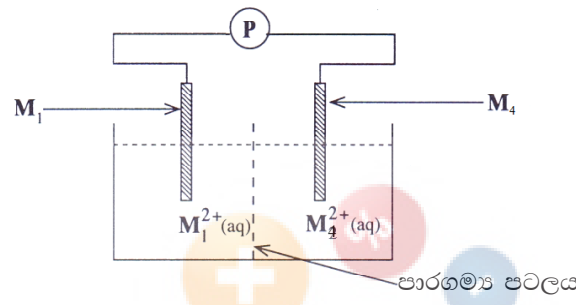
$E_{\text{cell-2}}^{\circ} = E_{\text{cathode}}^{\circ} - E_{\text{anode}}^{\circ}$
 $= 0.34 - (-0.76) \text{ V}$ (04)

$= 1.1 \text{ V}$ (01 + 01)

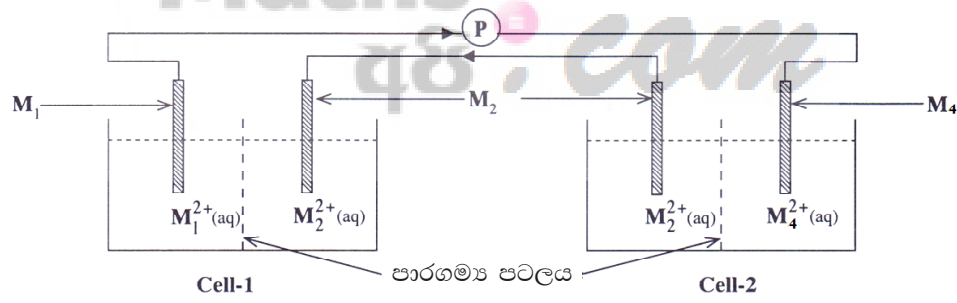
(vi) පහත පරිදි කෝෂයක් සකස් කරන්න. හෝ ප්‍රශ්නයේ දී ඇති කෝෂයෙහි සුදුසු වෙනස්කම් කර සඳහන් කිරීම.

පහත රූපසටහන වෙනුවට සම්මුතිය අංකයෙන් කෝෂ නිරූපණය කිරීම (කුමන දිශාවකට වුවත්) පිළිගත හැකි ය. ඉන් පසු P මැන ගත හැකි ය. (04)

$\text{M}_4(\text{s})/\text{M}_4^{2+}(\text{aq})//\text{M}_1^{2+}(\text{aq})/\text{M}_1(\text{s})$ හෝ පහත රූපසටහන



M_1 හෝ M_2 වෙනුවට M_4 යෙදිය හැකි ය. (පාරගමය පටලය වෙනුවට ලවණ සේතුව යෙදාගත හැකි ය.)



[P = සංඛ්‍යාංක වෝල්ටීයමීටරයේ පාඨාංකය (ධන පාඨාංකයක් ලෙස සලකමින්.)]

$P = E_{\text{M}_4^{2+}(\text{aq})/\text{M}_4(\text{s})}^{\circ} - E_{\text{M}_1^{2+}(\text{aq})/\text{M}_1(\text{s})}^{\circ}$ (04)

$E_{\text{M}_1^{2+}(\text{aq})/\text{M}_1(\text{s})}^{\circ}$ දන්නා බැවින් (04)

$E_{\text{M}_4^{2+}(\text{aq})/\text{M}_4(\text{s})}^{\circ}$ ලබාගත හැකි ය. (03)

සැ.යු.: M_1 හෝ M_2 වෙනුවට M_4 යෙදිය හැකි ය.

(10 (b) සඳහා = ලකුණු 75)

(10 සඳහා මුළු ලකුණු 150)

III කොටස

3.0 පිළිතුරු සැපයීමේ දී සැලකිලිමත් විය යුතු කරුණු හා යෝජනා :

3.1 පිළිතුරු සැපයීමේ දී සැලකිලිමත් විය යුතු කරුණු :

පොදු උපදෙස් :

- * ප්‍රශ්න පත්‍රයේ ඇති මූලික උපදෙස් කියවා හොඳින් තේරුම් ගත යුතු ය. එනම් එක් එක් කොටසින් කොපමණ ප්‍රශ්න සංඛ්‍යාවකට පිළිතුරු සැපයිය යුතු ද, කුමන ප්‍රශ්න අනිවාර්ය ද, කොපමණ කාලයක් ලැබේ ද, කොපමණ ලකුණු ලැබේ ද, යන කරුණු පිළිබඳ ව සැලකිලිමත් විය යුතු අතර ප්‍රශ්න හොඳින් කියවා නිරවුල් අවබෝධයක් ඇති කර ගෙන ප්‍රශ්න තෝරා ගත යුතු ය.
- * I පත්‍රයේ ප්‍රශ්නවලට පිළිතුරු සැපයීමේ දී වඩාත් නිවැරදි එක් පිළිතුරක් තෝරා ගත යුතු ය. තව ද පැහැදිලි ව එක් කතිර ලකුණක් පමණක් යෙදිය යුතු ය.
- * II පත්‍රයේ ප්‍රශ්නවලට පිළිතුරු සැපයීමේ දී සෑම ප්‍රධාන ප්‍රශ්නයක් ම අලුත් පිටුවකින් ආරම්භ කළ යුතු ය.
- * නිවැරදි හා පැහැදිලි අත් අකුරුවලින් පිළිතුරු ලිවිය යුතු ය.
- * අයදුම්කරුගේ විභාග අංකය සෑම පිටුවක ම අදාළ ස්ථානයේ ලිවිය යුතු ය.
- * ප්‍රශ්න අංක හා අනුකොටස් නිවැරදි ව ලිවිය යුතු ය.
- * නිශ්චිත කෙටි පිළිතුරු ලිවීමට අවශ්‍ය අවස්ථාවල දී දීර්ඝ විස්තර ඇතුළත් නොකිරීම මෙන් ම විස්තරාත්මක පිළිතුරු සැපයිය යුතු අවස්ථාවල දී කෙටි පිළිතුරු සැපයීම ද නොකළ යුතු ය.
- * ප්‍රශ්නය අසා ඇති ආකාරය අනුව තර්කානුකූල ව හා විශ්ලේෂණාත්මක ව කරුණු ඉදිරිපත් කළ යුතු ය.
- * II වන ප්‍රශ්න පත්‍රයට පිළිතුරු ලිවීමේ දී ප්‍රධාන ප්‍රශ්නය යටතේ ඇති අනුකොටස් සියල්ල හොඳින් කියවා බලා එක් එක් අනුකොටසට අදාළ ඉලක්ක ගත පිළිතුර පමණක් ලිවිය යුතු ය.
- * ගැටලුවලට පිළිතුරු සැපයීමේ දී ඇති කාලය නිසි පරිදි කළමනාකරණය කර ගැනීමට වගබලා ගත යුතු ය.
- * පිළිතුරු ලිවීමේ දී රතු සහ කොළ පාට පෑන් භාවිත කිරීමෙන් වැළකිය යුතු ය.
- * පිළිතුරු ලිවීමට ලැබී ඇති කාලය අවසාන වීමට ආසන්න බව හැඟවෙන සීනුව නාදවීමත් සමඟ ම පිළිතුරු පත්‍ර සියල්ල නිසි ලෙස අමුණා පිළියෙළ කර ගත යුතු ය.
- * වඩාත් ම ඵලදායී ලෙස කාලය කළමනාකරණය කර ගනු පිණිස, පහසු ප්‍රශ්නවලට පළමුව ද දුෂ්කරතාවෙන් වැඩි යැයි හැඟෙන ප්‍රශ්නවලට ද පසුව ද පිළිතුරු සැපයීම, දී ඇති අනුපිළිවෙළ අනුව ප්‍රශ්නවලට පිළිතුරු සැපයීමට වඩා යෝග්‍ය වේ.

විශේෂ උපදෙස් :

- * ප්‍රතික්‍රියා සඳහා රසායනික සමීකරණ ලිවිය යුතු අවස්ථාවල දී සැම විට ම ඒවා තුලිත කළ යුතු ය. අවශ්‍ය අවස්ථාවල දී ප්‍රතික්‍රියක හා ඵලවල භෞතික ස්වභාවය ද සඳහන් කළ යුතු ය.
- * භෞතික රාශි යෙදෙන සැම අවස්ථාවල ම ඒවායේ අගය සමග නිවැරදි ඒකක ද සඳහන් කළ යුතු ය.
- * ලුච්ස් ව්‍යුහ සහ සම්ප්‍රයුක්ත ව්‍යුහ ඇඳීමේ දී එකසර ඉලෙක්ට්‍රෝන යුගල හා ආරෝපණය නිවැරදි ව දැක්විය යුතු ය.
- * රසායනික ගණනය කිරීම්වල දී සංශ්ලේෂණ හා විශ්ලේෂණ හැකියා වැඩි දියුණු වන පරිදි ගැටලු විසඳීමට වැඩිපුර අභ්‍යාස සිදු කළ යුතු ය.

